

令和8年度 九州国際大学附属高等学校

社 会 入 学 試 験 問 題

問題用紙（1～26 ページ） 試験時間（50 分）

注 意 事 項


1. 試験問題は、試験開始の合図があるまで開けないこと。
2. 解答用紙は、体の正面に置いて受験すること。
3. 試験開始後、解答用紙の所定の位置にQRコードを貼り付け、受験番号を受験票通りに記入すること。また、問題冊子の印刷の不具合などに気付いた場合は手を挙げて監督者に申し出ること。
4. 解答は、すべて解答用紙の枠内に記入すること。
5. 計算機、定規、分度器、アラーム、携帯電話等の使用および物品の貸し借りは禁止する。
6. 試験終了後、解答用紙を表にして筆記用具を隅に置き、監督者の指示に従うこと。
7. 体調不良等の場合は、監督者に申し出ること。
8. 問題用紙は、各自持ち帰ること。

1 次の文を読み、それぞれの問いに答えなさい。

鬼という言葉は古くから用いられてきました。人々に災いをもたらす恐ろしい存在として擬人化されることもあれば、人の力を超えた霊的なものを広くさすこともあります。3世紀に書かれた中国の『魏志』倭人伝には、当時の日本の政治が「鬼道を事とし、能く衆を惑わす」と表現されています。これは A をさしています。それからおよそ500年がたった奈良時代には、都の（ア）京に右図のような鬼瓦をもつ建物が増えました。これは魔よけの飾りにされていたようです。こうしたことから、鬼は絶対的な悪を意味するものではないことがわかります。



平安時代を舞台にした絵巻物の『大江山絵詞』には、酒呑童子という鬼が出てきます。a 一条天皇の時代、大江山にいた酒呑童子を源頼光らが退治するという物語です。頼光は後に金太郎のモデルとなる坂田公時（金時）たちを引き連れて鬼のところへ行き、毒酒を飲ませて寝たすきに首を切り落とします。このとき首だけになった酒呑童子から「鬼は人間のように卑怯なまねはしない」と



いった意味のことを言われます。まるで人間の方が悪であるかのようなセリフです。12世紀ごろには左図の『餓鬼草子』が描かれ、不気味な姿をした鬼が登場します。鬼は病をもたらすとも考えられていました。武士として初めて政権を手に入れ、日宋貿易を盛んにした（イ）が熱病で亡くなったとされるのもこのころです。鎌倉時代に兼好法師が著した随筆集の傑作『徒然草』に、「応長の比、b 伊勢国より、女の鬼に成りたるを率て上りたりといふ事ありて…」という記述があります。しかし、この鬼は「虚言」だったそうです。

室町時代の鬼といえば、大徳寺に伝わる『百鬼夜行絵巻』が知られています。ここに描かれているのはさまざまな姿をした妖怪や付喪神で、この世のものでない存在を広く鬼と表現しています。いつのころからか鬼という言葉は強いものを表すようにもなり、戦国大名の中にも、「井伊の赤鬼」や c 鬼島津のような異名をもつ者がいました。日本における鬼に近い存在として、ヨーロッパには悪魔がいます。d キリスト教の思想における神に敵対する存在で、日本の鬼ほど肯定的に使われることは少ないようです。

泰平が続いた江戸時代には、鬼のかげは薄まります。e 人々の娯楽の多様化、現実的学問の普及、科学に強い洋学の広まりなどいろいろな理由が考えられます。恐怖の対象としては、幽霊のように、より人間に近いものが用いられるようになりました。鬼は古くさいものと思われていたのかもしれませんが、f 江戸幕府の衰退が明らかになった19世紀、日本を震撼させた黒船来航では、人々はペリーの似顔絵を赤鬼になぞらえて描いたといえます。やはり日本人の心の奥には、不安や恐怖の象徴として鬼が存在しているのでしょう。

問1 本文中の A に入る文として正しいものを、次の1～4から一つ選び、数字で答えなさい。

- 1 大陸から伝わった仏教の思想を、政治の安定のために取り入れたこと
- 2 鬼の姿をした土偶をつくり、王が死ぬと一緒に古墳に埋める政治儀式のこと
- 3 ヤマト王権の中大兄皇子が白村江の戦いで大敗して、政治が混乱したこと
- 4 邪馬台国の卑弥呼が神につかえ、まじないによって政治をしていたこと

問2 本文中の（ア）に入る語句を、漢字で答えなさい。

問3 下線部aは藤原道長が台頭した時代です。この時代のできごととして正しいものを、次の1～4から一つ選び、数字で答えなさい。

- 1 地方の行政はほとんど国司任せになり、横暴な国司が不正をはたらいて地域の人々から訴えられるようになった。
- 2 朝廷は国ごとに守護、荘園や公領ごとに地頭をおいて、天皇と貴族との間での御恩と奉公の関係が朝廷の根幹となった。
- 3 仏教が盛んになる一方、宗教的な結束力は一向一揆のような反乱につながり、国司が一揆勢力にたおされる事件もあった。
- 4 律令という決まりに従った政治が始まって、6歳以上の男女に口分田を割り当てる班田収授が行われるようになった。

問4 本文中の（イ）に入る人物を、漢字で答えなさい。

問5 下線部bは現在の三重県で、三重県四日市市は四のつく日に開かれた定期市が名の由来です。中世（およそ鎌倉時代～室町時代）に日本で定期市が盛んになった背景として最も適切なものを、次の1～4から一つ選び、数字で答えなさい。

- 1 武士は自分の領地の中に館をかまえ、領内の田畑を下人や農民に耕作させながら、自らはかきかけ笠懸などの武芸に日々励んでいた。
- 2 農業技術の進歩により食料や商品作物の生産が増えたうえ、中国から入ってきた銭を使った商業が広まって経済が活発になっていた。
- 3 栄西や道元が中国から伝えた禅宗は修行を好む武士に受け入れられ、幕府もこれを保護したため各地に禅宗の寺院が建てられた。
- 4 足利義満は南北朝の動乱を終わらせて社会を安定させ、それまで朝廷がもっていた政治や経済に関する権限を幕府に吸収した。

問6 下線部cは薩摩の大名、島津氏です。17世紀はじめに島津氏によって征服された国または地域の説明として正しいものを、次の1～4から一つ選び、数字で答えなさい。

- 1 その国は、明の征服を図る日本に服従を迫られ、日本と戦争になった。戦いの中で、その国から連れてこられた陶工により優れた陶磁器の技術が日本に伝来した。
- 2 その地域には古くから先住民族がいて、主に狩りや漁業で生活していた。彼らは広く交易しており、和人だけでなくオホーツク沿岸地域とも交易していた。
- 3 その国はかつて北山・中山・南山に分かれていたが、中山王の尚巴志が統一した。その後、中国・日本・東南アジアを結ぶ中継貿易をおこなっていた。
- 4 その国は長崎の出島に来航し、日本と貿易をしていた。その国からは生糸・砂糖・薬などが、日本からは銀・銅・陶磁器などが輸出されていた。

問7 下線部dに関する説明として誤っているものを、次の1～4から一つ選び、数字で答えなさい。

- 1 1世紀はじめ、イエスは神の前では人は平等で、神の愛によってみな救われると説いた。この考えが弟子たちによって新約聖書にまとめられてキリスト教になり、ローマ帝国に迫害されたが後に公認された。
- 2 イスラム教徒が聖地エルサレムを支配下に治めると、11世紀にローマ教皇は十字軍を送って奪回をめざした。奪回には失敗したが、何度もおこなわれた遠征の影響で、ヨーロッパではイスラム文化や古代ギリシャなどへの関心が高まった。
- 3 日本におけるキリスト教は、16世紀にフランシスコ＝ザビエルによって伝えられた。一時は九州を中心に広まってキリシタン大名も生まれたが、次第にスペインによる侵略への警戒感から、宣教師や信者は弾圧されるようになった。
- 4 16世紀、ローマ教皇による免罪符の販売に反発したドイツのルターらは、教会の改革を求めて抵抗した。その結果、ローマ教皇を支持するプロテスタントと、反対の立場をとるカトリックは対立したが、プロテスタント内でも改革の動きが出てきた。

問8 下線部eに関して、江戸時代には庶民が伊勢神宮を集団で参拝するおかげ参りが流行しました。これを示す史料として正しいものを、次の1～4から一つ選び、数字で答えなさい。

1




2



3



4



問9 下線部 f に関して、江戸幕府による改革 X～Z と、その改革につながる社会的背景 I～Ⅲの正しい組み合わせを、下の 1～9 から一つ選び、数字で答えなさい。

<改革>

X	Y	Z
<small>きゅうり き のうれい</small> 旧里帰農令	<small>しんすいきゅうよれい</small> 薪水給与令	<small>たしだか</small> 足高の制
百姓の都市への出かせぎを制限して、江戸の流浪民には村へ帰るようすすめた。	外国船には必要な食料・燃料などを与えて、引き取ってもらうようにした。	才能があれば、下級の武士でも幕府の中で役職につけるようにした。

<社会的背景>

- I 一部の地主や商人は作業場に道具をそろえ、村の小作人を集めて生産をおこなった。
- II インドでイギリスへの不満が高まる中、東インド会社にやとわれていたシパーヒーが大きな反乱を起こした。
- III 冷夏や火山の噴火により大飢饉だい ききんが発生して、特に東北地方の農業に深刻な被害が出た。

- 1 X-I 2 X-II 3 X-III
- 4 Y-I 5 Y-II 6 Y-III
- 7 Z-I 8 Z-II 9 Z-III

2 次の文を読み、それぞれの問いに答えなさい。

日本の自動車文化は、明治期の a 文明開化や b 華族制度、20 世紀半ばまで大衆車が普及せず上流層しか自動車を所有できなかったことから、当初はヨーロッパと同様に貴族趣味的なものとして始まりました。

1902 年、川田龍吉 ^{だんしゃく} 男爵が蒸気自動車スタンレー・スチーマーを購入し、通勤に使用しました。これは川田男爵が日本初の自家用車所有者になったことでもありました。

また、1908 年には、皇族の ^{ありす がわのみやたけひとしんのう} 有栖川宮威仁親王が「ダラック号」を先頭に、多くのガソリン自動車で行いました。これが日本初のドライブツアーとされています。

その後、1910 年には、日本初のオーナーズクラブ「日本自動車倶楽部」^{くらぶ} が結成されました。会長に c 大隈重信、メンバーには大倉喜七郎、伊東巳代治、d 寺内正毅、後藤新平、渋沢栄一、尾崎行雄といった政財界の名士が参加しました。また欧米各国の大使や公使も参加したことで、このクラブは一大サロンとなりました。当時の自動車所有者がほとんど入会したためにその影響力は大きく、自動車税の決定など行政的な業務も行いました。

e 第二次世界大戦後には日本を占領した f GHQ が自動車の開発を制限して、特に乗用車は事実上の禁止となりました。この制限は 1949 年に解除されて、1952 年ごろからは先進国のメーカーと技術提携^{ていけい}して外国車を生産します。その後、国産化を目指して技術の吸収に努めるメーカーが増えていきました。日野自動車はルノー（フランス）、いすゞ自動車はヒルマン（イギリス）、日産自動車はオースチン（イギリス）と提携して、欧米の最新の自動車生産の技術を学んでいきました。その中でトヨタ自動車は独自路線をとって、純国産乗用車にこだわって開発を進めました。その結果、1955 年にトヨペット・クラウン（初代クラウン）を発表しました。ようやく純国産乗用車が誕生しましたが、欧米との差はとても大きいものでした。



蒸気自動車スタンレー・スチーマー



トヨペット・クラウン

1955年には通産省が「国民車構想」を発表しました。それを受けて、富士重工業のスバル 360 は爆発的な人気となりました。その後、各メーカーが開発競争を繰り広げて、モータリゼーションを急速に進展させていきました。

1960年代に入ると、東京オリンピック、大阪万博開催などの特需もあって、さらに経済発展を遂げて、1968年には資本主義国の中でGNP世界第2位となっていきました。そうした中、トヨタは日本の国民車となった初代カローラを1966年に発売しました。カローラは1968年～2001年の33年間、国内販売台数1位を維持するベストセラーカーとなり、現在でも世界中で販売を続けています。



トヨタ・カローラ

しかし、自動車の急速な発展は社会問題の発生につながりました。交通事故による年間死亡者数が1万人以上となり、交通渋滞の問題が各地で発生してしまいます。また、排気ガスによる大気汚染、いわゆる公害問題は国内外を問わず大きく取り上げられ、その結果排気ガスに関する規制が強化され、各メーカーは排気ガス対策を行うことになりました。さらに1973年にオイルショックが起これ、ガソリン価格が急騰して、自動車の低燃費化が求められることにもなりました。ここで世界をリードする技術を示したのが、日本車でした。1972年に本田は規制に適合するエンジンを発表して世界に衝撃を与えます。さらに、肥大化したアメリカ車に比べて圧倒的に燃費の良い日本の小型車はアメリカ市場で、販売を伸ばしていきました。1980年には、日本の自動車生産台数が世界ナンバー1となり、その結果、アメリカとの間に貿易摩擦を引き起こすことにもなりました。

問1 下線部 a について述べた文として正しいものを、次の1～4から一つ選び、数字で答えなさい。

- 1 開港した博多や神戸の外国人居留地では、鉄筋造りの洋館が建設された。
- 2 東京の銀座では電灯がともされ、通りを明るく照らしていた。
- 3 暦は、昔から使われていた太陽暦が廃止され、太陰暦が採用された。
- 4 東京で牛鍋を提供する店が出始め、牛鍋が流行した。

問2 下線部 b を定めた伊藤博文に関して述べた次の文1～4を古い順に並べなさい。

- 1 統監府の初代統監に就任した。
- 2 陸奥宗光と共に全権大使として下関条約を結んだ。
- 3 初代内閣総理大臣に就任した。
- 4 岩倉使節団の代表者の一人として渡米した。

問3 下線部cの人物が1882年に結成した政党について述べた次の文X・Yと、それに該当する政党名ア～エとの組み合わせとして正しいものを、下の1～4から一つ選び、数字で答えなさい。

X イギリス流の立憲君主政治を目指し、国会については二院制を主張した。

Y フランス流の急進主義の影響が強く、国会については一院制を主張した。

ア 社会民主党 イ 立憲改進黨 ウ 自由党 エ 立憲民政党

1 X-ア 2 X-イ 3 Y-ウ 4 Y-エ

問4 下線部dの人物は、第一次世界大戦の時に首相として活躍していました。この時期に起こった出来事として誤っているものを、次の1～4から一つ選び、数字で答えなさい。

1 ロシアでは、労働者や兵士が革命を起こし皇帝が退位した。その後、ソビエトという労働者や兵士の代表者会議が、レーニンの指導で政府を作った。

2 アメリカは、中立の立場をとっていたが、ドイツの潜水艦が中立国の艦船を無差別に攻撃したことがきっかけで、連合国に加わった。

3 日本は輸出が急増し、海運業や造船業を中心に重化学工業が発展した。また、一部の人は巨額の富を築き、「成金」と呼ばれるようになった。


4 中国では、三民主義を唱えて活動していた孫文が、清から独立を宣言して中華人民共和国を成立させた。その後、袁世凱えんせいがいが協力し、清の皇帝を退位させて清の支配を終わらせた。

問5 下線部eに関連して、次の文中の（ A ）と（ B ）にあてはまる国名を、それぞれ答えなさい。

1945年2月、アメリカ・イギリス・（ A ）の首脳は、（ A ）のヤルタで会談してヨーロッパの戦後処理を決めました。さらに、（ A ）が対日参戦し、千島列島と南樺太を領有することが密約されました。7月になると、3国の代表は、ドイツのポツダムで会談しました。このとき、日本に無条件降伏をうながすポツダム宣言がまとめられ、（ B ）の同意を得て、アメリカ・イギリス・（ B ）の名で発表されました。しかし日本政府は、この宣言を無視しました。

問6 下線部 f は日本政府に対して五大改革の指令を出しました。その改革の成果を示す史料を、次の1～4から一つ選び、数字で答えなさい。

1



設立されたばかりの大阪紡績会社

2



初めての女性国会議員

3



沖縄祖国復帰要求大行進

4



第1回原水爆禁止世界大会

問7 下線部 g のころ、日本は高度経済成長期でした。この経済成長を促進するため、当時の首相池田勇人はあるスローガンを掲げ、それを達成しました。そのスローガンを次の1～4から一つ選び、数字で答えなさい。

- 1 大東亜共栄圏 2 持たず、つくらず、持ち込ませず
- 3 所得倍増計画 4 人の世に熱あれ、人間に光あれ

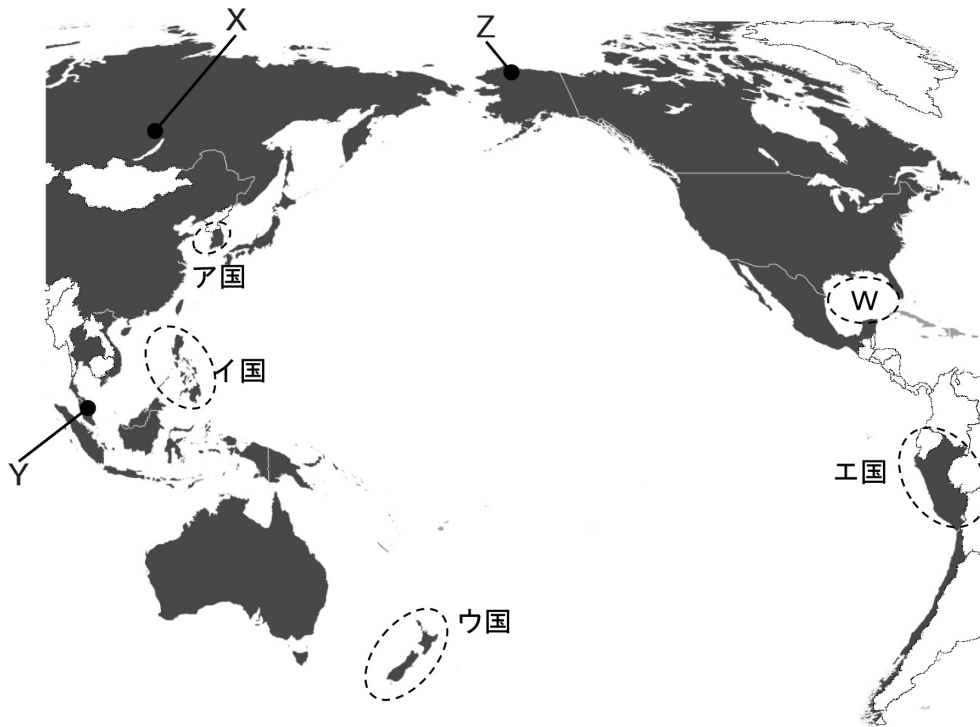
問8 下線部 h について、このことは石油危機とも呼ばれました。この原因となった出来事を次の1～4から一つ選び、数字で答えなさい。

- 1 ベトナム戦争 2 中東戦争 3 湾岸戦争 4 朝鮮戦争

3

次の略地図と資料をみて、それぞれの問いに答えなさい。

<略地図>



問1 略地図中で塗りつぶされている国々には、環太平洋地域で作られた国際的な枠組みの加盟国です。この枠組み名をアルファベット4文字で答えなさい。


問2 略地図中Wの海域で発生する、台風に似た熱帯性低気圧の名前をカタカナで答えなさい。

問3 略地図をみながら勉強している高校生のなおやくんとたくみくんとさくらさんの会話文を読み、その内容の正しいものを、次の1～4から一つ選び、数字で答えなさい。

- 1
- たくみ：ア国では独自のハングル文字を使っているね。
さくら：でも、食事の時に箸^{はし}を使ったり、先祖や年長者を大切にする儒教の影響が強かったりと、日本と似ている点も多いわ。
なおや：僕はア国の伝統的な食べ物として有名なキムチが大好きだよ。
- 2
- なおや：イ国はバナナのプランテーションが有名だよな。
たくみ：最近では、多くの日本企業もイ国へ進出していて、都市部の発展が進んでいるよ。
さくら：イ国を含めて、東南アジアは仏教国が多いから日本企業も進出しやすいのよ。
- 3
- なおや：ウ国はラグビーの強豪国として知られているね。
さくら：ウ国のラグビー代表チームは、試合前にハカという踊りを披露することで有名よな。
たくみ：ハカはウ国の先住民アボリジニから伝わる踊りで、士気を高めるんだ。
- 4
- さくら：エ国は、南米の中でも特に先住民の割合が高い国だよな。
なおや：そのためエ国では、ポルトガル語以外にも先住民の言語が公用語として使われているよ。
たくみ：先住民は、とうもろこしやじゃがいもを栽培したり、アルパカを放牧したりと伝統的な生活も続けている人も多いよ。


<資料Ⅰ>

ア



カリブーの群れとツンドラが
広がる湿地

イ



広大な針葉樹の森林

ウ

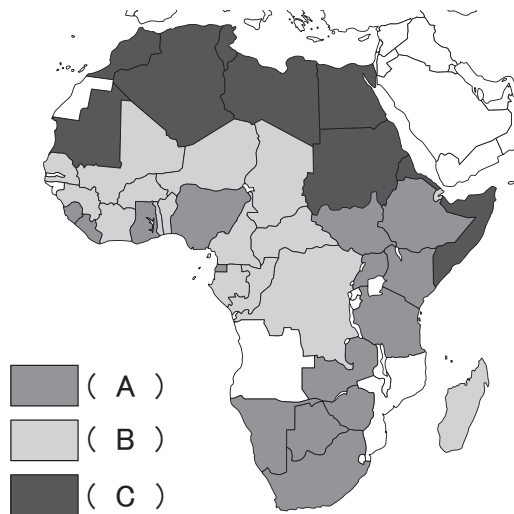


背丈が高い常緑広葉樹林

問4 資料Ⅰ中のア～ウは略地図中のX～Zのいずれかの植生です。これらの正しい組み合わせを、次の1～6から一つ選び、数字で答えなさい。

- | | | | | | | | |
|---|-----|-----|-----|---|-----|-----|-----|
| 1 | アーX | イーY | ウーZ | 2 | アーX | イーZ | ウーY |
| 3 | アーY | イーX | ウーZ | 4 | アーY | イーZ | ウーX |
| 5 | アーZ | イーX | ウーY | 6 | アーZ | イーY | ウーX |

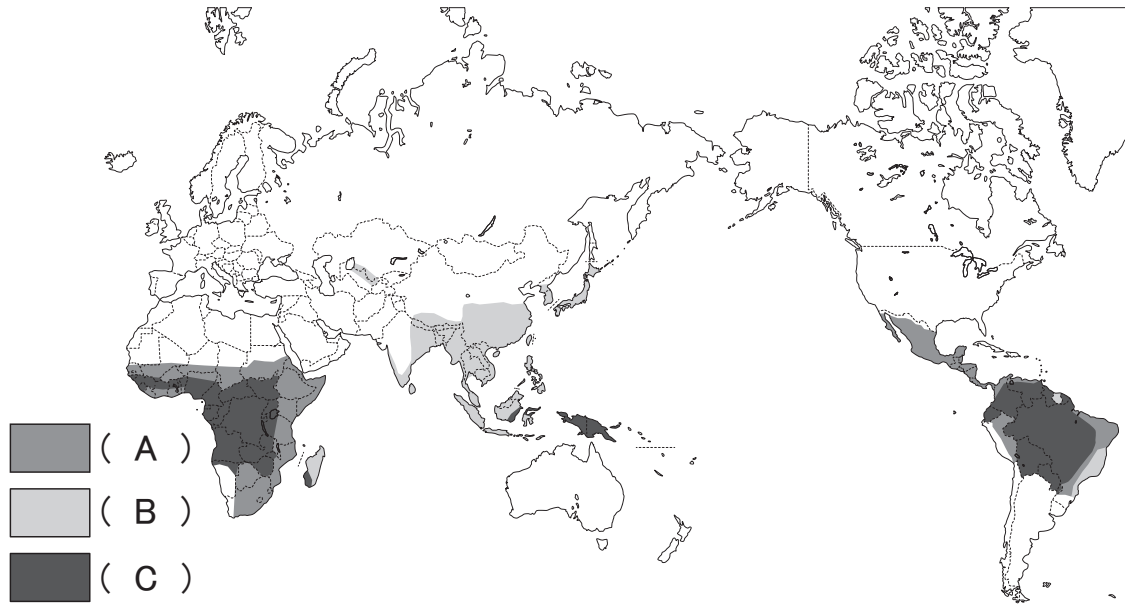
<資料Ⅱ> 中東・アフリカの主な使用言語



問5 資料Ⅱ中のA～Cは英語、フランス語、アラビア語のいずれかです。これらの正しい組み合わせを、次の1～6から一つ選び、数字で答えなさい。

- | | | | |
|---|---------|---------|---------|
| 1 | Aー英語 | Bーフランス語 | Cーアラビア語 |
| 2 | Aー英語 | Bーアラビア語 | Cーフランス語 |
| 3 | Aーフランス語 | Bー英語 | Cーアラビア語 |
| 4 | Aーフランス語 | Bーアラビア語 | Cー英語 |
| 5 | Aーアラビア語 | Bー英語 | Cーフランス語 |
| 6 | Aーアラビア語 | Bーフランス語 | Cー英語 |

<資料Ⅲ> 世界の主な食べ物




<資料Ⅳ>

ア




米の粉から作っためん料理を食べる人

イ



とうもろこしの粉を使って調理をしている人

ウ

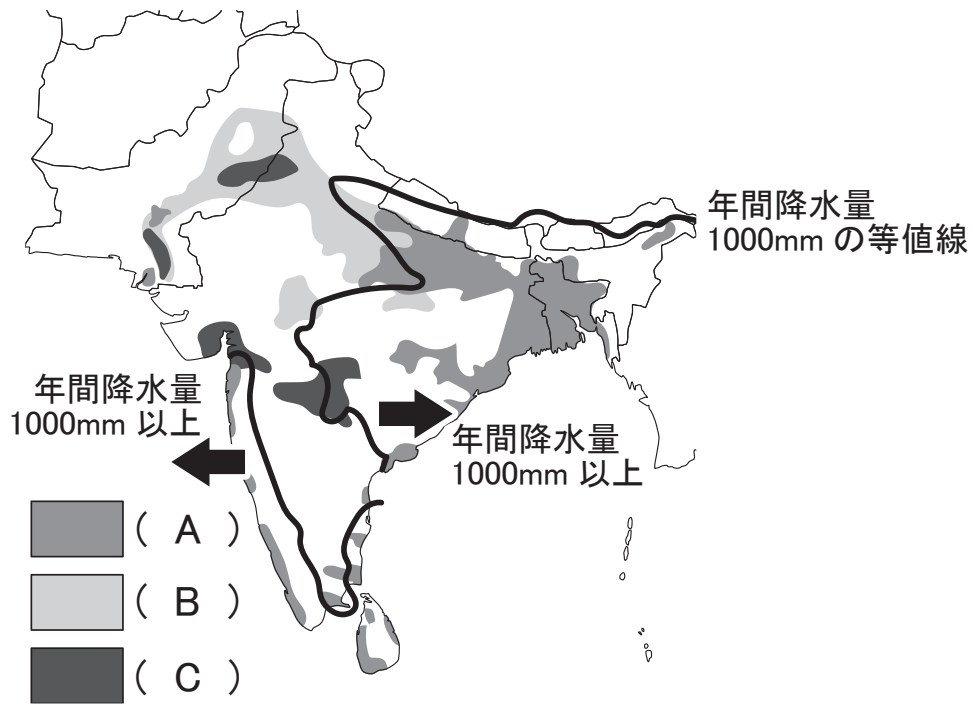


蒸したタロいもをすりつぶしている人

問6 資料Ⅳ中のア～ウは資料Ⅲ中のA～Cのいずれかでみられる食事の様子です。その正しい組み合わせを、次の1～6から一つ選び、数字で答えなさい。

- | | | | | | | | |
|---|-----|-----|-----|---|-----|-----|-----|
| 1 | A-ア | B-イ | C-ウ | 2 | A-ア | B-ウ | C-イ |
| 3 | A-イ | B-ア | C-ウ | 4 | A-イ | B-ウ | C-ア |
| 5 | A-ウ | B-ア | C-イ | 6 | A-ウ | B-イ | C-ア |

<資料V> 南アジアの主な農業地帯

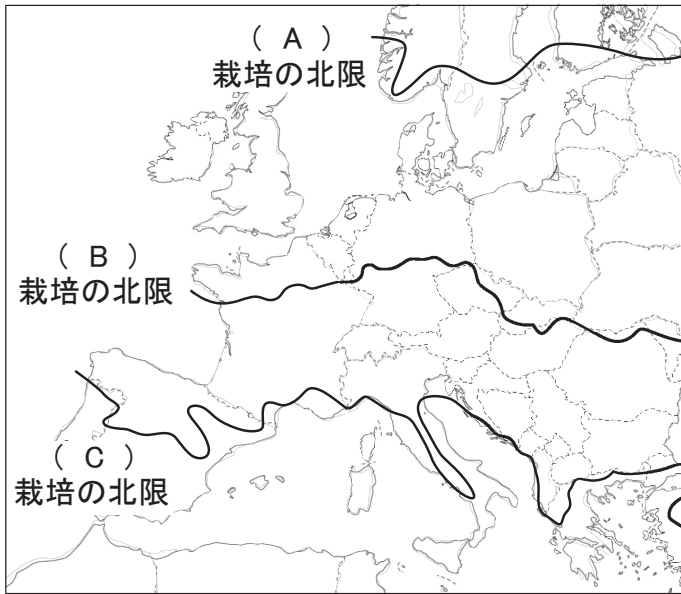


問7 資料V中のA～Cは小麦、米、綿花のいずれかです。これらの正しい組み合わせを、次の

1～6から一つ選び、数字で答えなさい。

- | | | | |
|---|------|------|------|
| 1 | A－小麦 | B－米 | C－綿花 |
| 2 | A－小麦 | B－綿花 | C－米 |
| 3 | A－米 | B－小麦 | C－綿花 |
| 4 | A－米 | B－綿花 | C－小麦 |
| 5 | A－綿花 | B－小麦 | C－米 |
| 6 | A－綿花 | B－米 | C－小麦 |

<資料Ⅵ> ヨーロッパ地域の栽培の北限



問8 資料Ⅵ中のA～Cはぶどう、オリーブ、小麦における栽培の北限のいずれかです。これらの正しい組み合わせを、次の1～6から一つ選び、数字で答えなさい。

- | | | | |
|---|--------|--------|--------|
| 1 | A-ぶどう | B-オリーブ | C-小麦 |
| 2 | A-ぶどう | B-小麦 | C-オリーブ |
| 3 | A-オリーブ | B-ぶどう | C-小麦 |
| 4 | A-オリーブ | B-小麦 | C-ぶどう |
| 5 | A-小麦 | B-ぶどう | C-オリーブ |
| 6 | A-小麦 | B-オリーブ | C-ぶどう |

4 次の略地図と資料をみて、それぞれの問いに答えなさい。

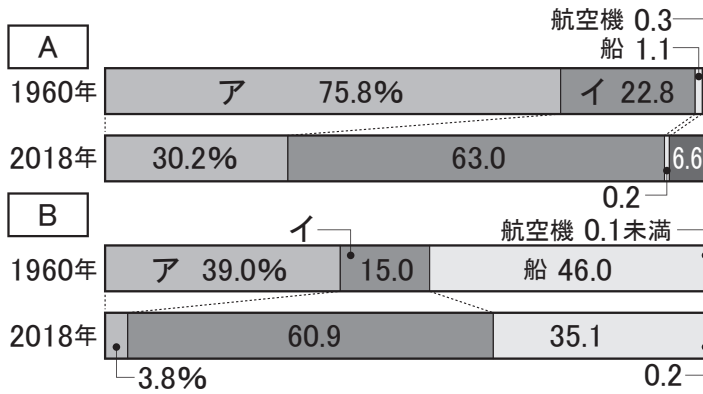
長期休暇を利用して、全国各地を通る新幹線に乗り、さまざまな地域を訪れました。移動中に見えてきた各地の風景や文化、産業の違いから、日本の地域ごとの特色について理解を深めることができました。これから、それぞれの地域の特徴について見ていきます。

<略地図>

新幹線路線図(2025年3月現在)



<資料 I> 国内輸送の内訳の変化



(2018年 国土交通省資料より作成)

問1 資料 I 中の A と B は旅客と貨物、アとイは自動車と鉄道のいずれかです。旅客と鉄道の正しい組み合わせを、次の 1～4 から一つ選び、数字で答えなさい。

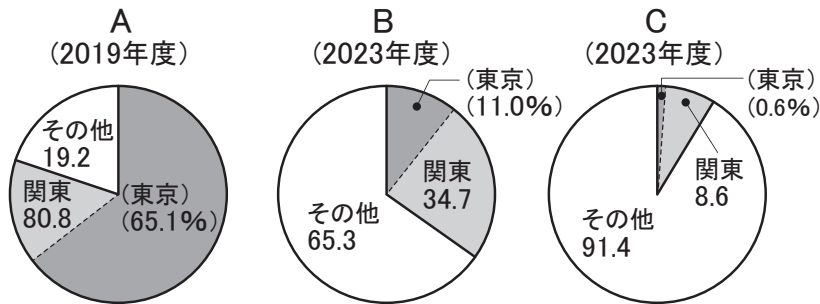
- 1 A－旅客 ア－鉄道 2 A－旅客 イ－鉄道
 3 B－旅客 ア－鉄道 4 B－旅客 イ－鉄道

問2 東北地方に関する説明文 A と B の正誤の正しい組み合わせを、下の 1～4 から一つ選び、数字で答えなさい。

- A 東北地方は全県で新幹線が開通し、各県庁所在地とつながっている。
 B 交通網の発達に伴う移住者の増加によって、人口の減少や高齢化の課題が解消された。

- 1 A－正 B－正 2 A－正 B－誤
 3 A－誤 B－正 4 A－誤 B－誤

<資料Ⅱ>東京都への集中



(住民基本台帳 人口・世帯数表他より作成)

問3 東京は全国を結ぶ交通網の中心であり、人口が過密な地域になっています。資料Ⅱ中のA～Cは、外資系企業、人口、面積のいずれかです。これらの正しい組み合わせを、次の1～6から一つ選び、数字で答えなさい。

- | | | | |
|---|---------|---------|---------|
| 1 | A－人口 | B－面積 | C－外資系企業 |
| 2 | A－人口 | B－外資系企業 | C－面積 |
| 3 | A－面積 | B－人口 | C－外資系企業 |
| 4 | A－面積 | B－外資系企業 | C－人口 |
| 5 | A－外資系企業 | B－人口 | C－面積 |
| 6 | A－外資系企業 | B－面積 | C－人口 |

問4 東海道新幹線が通る地域を説明した文として誤っているものを、次の1～4から一つ選び、数字で答えなさい。

- 1 山梨県は、果物の生産が有名で中でもブドウの生産が全国の上位である。
- 2 愛知県は、自動車の生産が盛んで国内販売だけでなく海外にも輸出している。
- 3 京都府は、古都として寺院や神社が世界遺産となり多くの観光客が訪れている。
- 4 滋賀県は、アオコの発生により琵琶湖の水質改善が求められている。

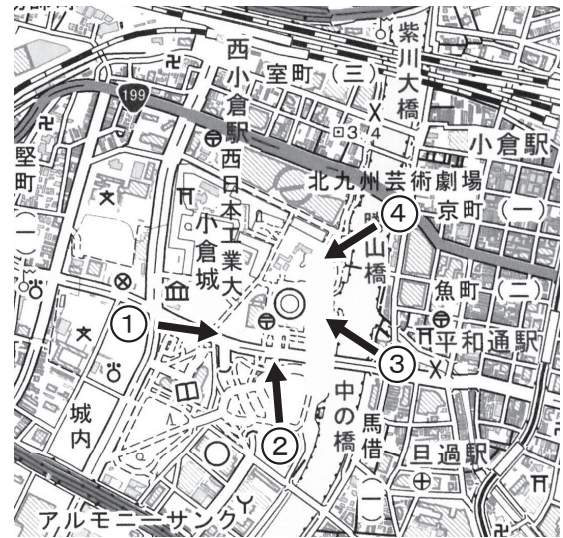
問5 山陽新幹線は始点と終点の県を含めて、都道府県をいくつ通過していますか。数字のみで答えなさい。

<写真>



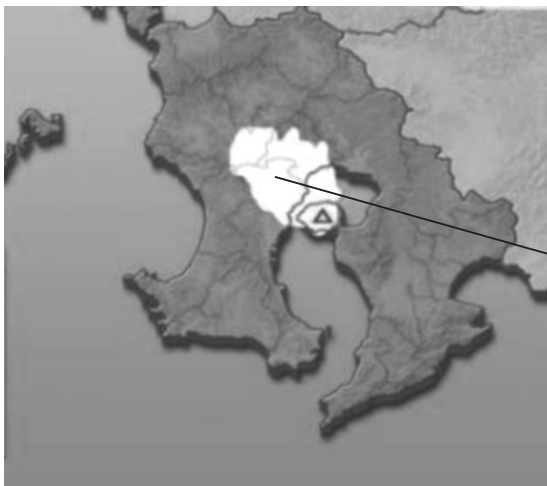
市役所を中心に左に警察署、右に城が見える

<資料Ⅲ>



問6 小倉駅下車後、北九州市内の写真を撮りました。写真は資料Ⅲ中の1～4のいずれかで撮影したものです。上の資料Ⅲ中の1～4から適当なものを選び、数字で答えなさい。

<資料Ⅳ>鹿児島市の降灰予報



降灰の地域

(2025年鹿児島読売テレビ資料より作成)

問7 資料Ⅳについて、鹿児島県では、火山灰が降ることがあります。降灰予報を見て、どのような事が予想されるか具体的に答えなさい。

夏の時期は（ ）の方角から（ ）が吹くため鹿児島市内では対策が必要である。

5 次の文を読み、それぞれの問いに答えなさい。

最初に人権という考え方が大きな役割を果たしたのは、人々の意思を無視した専制政治に対する抵抗です。かつて、国王の権力は絶対的な最高権力とされ、これは神から与えられたものであり、逆らうことは許されませんでした。例えば国王は、批判する人を逮捕したり、拷問によって自白させたり、税金を無理やり取り立てることができました。このような圧迫や迫害から逃れるために人々は（ A ）を起こし、自由や平等などを獲得していきました。この（ A ）の代表的なものとして、アメリカの独立革命やフランス革命が挙げられます。革命の成果であるアメリカ独立宣言やフランス人権宣言には、すべての人に生まれながらにして自由で平等な権利があることが宣言されています。次第に自由権や平等権は保障されていきましたが、産業革命後に増加した労働者の厳しい労働環境や貧しい暮らしは放置されたままでした。そこで、人々が人間らしい生活を実現するよう国家に要求するようになり、20世紀に入って a 社会権 が登場しました。これは1947年に施行された日本国憲法においても保障されています。

日本国憲法では、基本的人権の尊重・国民主権・平和主義という三つの基本原則^{かか}を掲げており、基本的人権として、社会権の他にも自由権や b 平等権、参政権や請求権などを保障しています。また社会権には生存権、教育を受ける権利、勤労の権利、 c 労働基本権（労働三権） があります。

国民主権を実現する手段の代表的なものとして選挙があります。主権者である国民は d 選挙 によって代表者（国会議員）を選びます。選挙制度は、国民の意思を政治に適切に反映させるための重要なしくみであり、制度の違いは人々の投票行動や e 政党 のあり方にも影響を与えます。選ばれた国会議員は国会において、すべての国民の代表として国の政治のあり方を議論した上で、決定するための投票に参加します。

日本は憲法第9条にみられるように、徹底した平和主義をとっています。これは非常に重要な考え方ですが、一方でおもに自国の防衛と、日本も含めた国際社会の安全を保つために、自衛隊が設置されています。朝鮮戦争をきっかけに設置された警察予備隊は保安隊を経て、1954年に自衛隊となりました。規模や装備を補強しながら一定の防衛力をもつようになった自衛隊は、 f 国連の平和維持活動（PKO） にも派遣されるようになり、国内外の災害時の支援活動においても活躍しています。

問1 文中の（ A ）にあてはまる語句を漢字4字で答えなさい。

問2 下線部aを世界で初めて保障した憲法を何といいますか。

問3 下線部 b に関連して、2013 年に制定された障害者差別解消法では、障がいのある人への不当な差別的取扱いを禁止すると同時に、「合理的配慮」という考え方を導入しました。この合理的配慮にあてはまるものを、次のア～ウからすべて選び、その正しい組み合わせを、下の 1～7 から一つ選び、数字で答えなさい。

- ア 障がいがあることを理由に、入店や窓口の対応を拒否する。
- イ 障がいがある人の特性に応じて、座席を決める。
- ウ 必要な情報を伝えるために絵や写真を使う。

- 1 ア 2 イ 3 ウ
- 4 アとイ 5 アとウ 6 イとウ 7 アとイとウ

問4 下線部 c を保障するものとして労働三法がありますが、労働三権や労働三法に関する説明文として正しいものを、次の 1～4 から一つ選び、数字で答えなさい。

- 1 労働時間や労働条件の最低基準を定めた法律を労働基準法という。
- 2 都道府県別の最低賃金を定めた法律を労働関係調整法という。
- 3 ストライキなどによって、会社側に要求を訴える権利を団体交渉権という。
- 4 団結して労働組合を作ったり、加入したりする権利を団体行動権という。

問5 下線部 d に関連して、2015 年の公職選挙法改正により実現した、隣接する有権者の少ない選挙区を統合してまとめ、定数を削減することを何といいますか。漢字で答えなさい。

問6 下線部 d に関連して、衆議院と参議院との違いについての説明文①と②の正誤の正しい組み合わせを、下の 1～4 から一つ選び、数字で答えなさい。

- ① 衆議院と参議院は定数や任期に違いはあるが、被選挙権に違いはない。
- ② 衆議院と参議院は選挙において、ともに比例代表制を導入している。

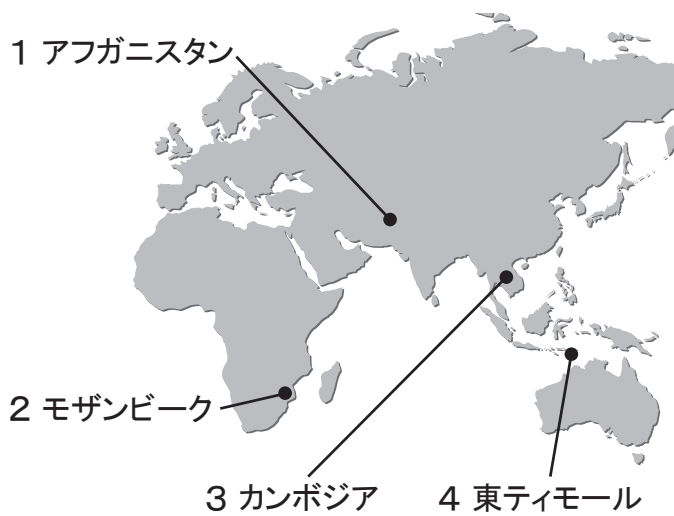
- 1 ①－正 ②－正 2 ①－正 ②－誤
- 3 ①－誤 ②－正 4 ①－誤 ②－誤

問7 下線部eに関する文①と②の正誤の正しい組み合わせを、下の1～4から一つ選び、数字で答えなさい。

- ① 政権をになう政党を与党、政権に参加しないその他の政党を野党という。
- ② 現在の日本は、二つの大きな政党が政権の獲得を競い合う二大政党制である。

- 1 ①－正 ②－正 2 ①－正 ②－誤
- 3 ①－誤 ②－正 4 ①－誤 ②－誤

<資料 I> 自衛隊の主な海外派遣



問8 下線部fに関連して、1992年に成立した国際平和協力法（PKO協力法）により自衛隊が最初に派遣された国として正しいものを、資料I中の1～4から一つ選び、数字で答えなさい。

6 次の文や資料をみて、それぞれの問いに答えなさい。

今の日本には、さまざまな「社会問題」があります。「少子高齢化」や「労働」、「格差」や「環境」などそれらの問題は、実はわたしたちの生活と深く関わっています。これからの日本がどのような社会になるのかを考えるためにも、今わたしたちが直面している問題について知ることはとても大切です。

まず、日本では子どもの数が少なくなり、高齢者の割合が増えています。これを「少子高齢化」といいます。子どもが少なくなると、将来大人になって働く人も減っていきます。働く人が減ると、a税金をおさめる人も減るので、b社会保障制度などに大きな影響が出てきます。

また、日本では「働きすぎ」も大きな問題になっています。長い時間働いて体や心をこわしてしまいう人がいます。中には、働きすぎが原因で命を落としてしまう人もいます。「ブラック企業」と呼ばれるようなc企業では、休みが少なかったり、給料がきちんと支払われなかったりすることもあります。こうした問題は、d働く人たちの命や生活に関わります。

さらに、「教育の格差」や「経済格差」も深刻です。家庭の経済的な理由で、塾に行けなかったり、必要な学用品を買えなかったりする子どもたちがいます。十分な学習の機会がなければ、将来の進学や仕事にも影響します。すべての子どもが夢をあきらめずにすむような社会を目指すことが求められています。

最後に近年では、地球温暖化など、さまざまな「環境問題」がおこっています。そのおもな原因は、人間のe経済活動によって大量に発生される温室効果ガスや廃棄物などです。しかし、f経済の発展は人々の暮らしを豊かにする面もあり、単に経済活動を制限すればよいというわけではありません。そこで重要になるのが、環境と経済の両立です。たとえば、わたしたちが日々の生活の中でごみを減らしたり、電気を節約したりすることも、環境を守る大切な行動です。これらは、g持続可能な社会を実現するための取り組みとして、世界中で注目されています。

社会にはさまざまな問題がありますが、どれも他人ごとではなく、わたしたちの未来に関わる大切なことです。一人ひとりが問題を知り、自分にできることを考えることが、よりよい社会につながっていきます。

問1 下線部aに関連した、次の文中の(X)に入る語句を漢字2字で答えなさい。

消費税は、所得の多い人も少ない人も同じ税率を課税されるので、所得の低い人の方が所得に占める税負担の割合が高くなる、(X)性という問題が生じやすくなる。

問2 下線部bのうち公的扶助について説明しているものを、次の1～4から一つ選び、数字で答えなさい。

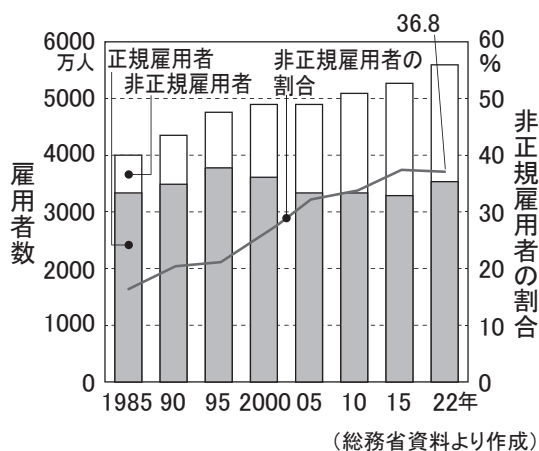
- 1 病気の予防や地域社会の衛生状態を改善し、生活の基盤を整える。
- 2 家庭環境にかかわらず、小学校6年間と中学校3年間の普通教育を無償で受けられる。
- 3 収入が少なく、最低限度の生活を送れない人々に生活費などを給付する。
- 4 病気やケガのとき、保険料を支払っていれば費用の一部を負担するだけで治療が受けられる。

問3 下線部cについて、中小企業に関する説明文①と②の正誤の正しい組み合わせを、下の1～4から一つ選び、数字で答えなさい。

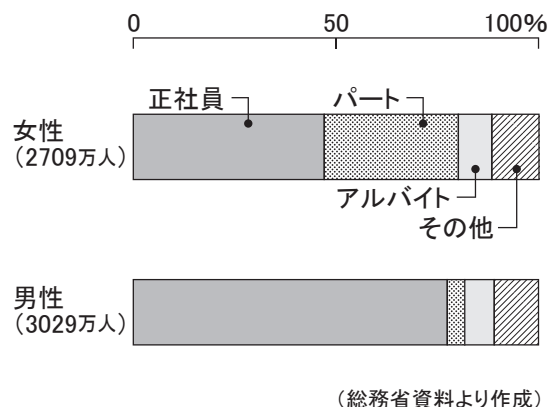
- ① 資金的な余裕がなく、後継者不足などの問題を抱えている企業も多くある。
- ② 事業所数の約99%を占めているが、その多くは少人数の小さな規模で営まれている。

- 1 ①－正 ②－正 2 ①－正 ②－誤
- 3 ①－誤 ②－正 4 ①－誤 ②－誤

<資料I> 正規雇用者と非正規雇用者数の推移



<資料II> 男女でみた雇用の形態別の割合

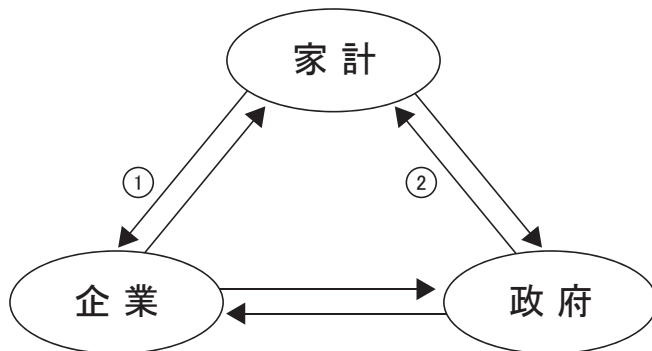


問4 下線部dに関連して、資料Iと資料IIから読みとれるものとして、①と②の正誤の正しい組み合わせを、下の1～4から一つ選び、数字で答えなさい。

- ① 非正規雇用者数は増加傾向にあり、2022年には働いている人のうちの35%を越えている。
- ② 日本で働いている人のうち約半数は女性であり、また正社員の割合は男性より多い傾向にある。

- 1 ①－正 ②－正 2 ①－正 ②－誤
- 3 ①－誤 ②－正 4 ①－誤 ②－誤

<資料Ⅲ>経済の3つの主体

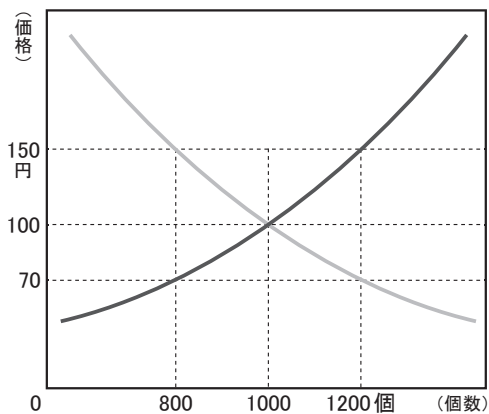


問5 下線部 e に関連して、資料Ⅲ中の矢印は家計・企業・政府の経済の循環を表しています。

資料Ⅲ中①と②の説明としてあてはまるものを、次の1～4から一つ選び、数字で答えなさい。

- | | | |
|---|--------------|--------------|
| 1 | ①-公共サービスや賃金 | ②-労働力や代金 |
| 2 | ①-労働力や代金 | ②-公共サービスや賃金 |
| 3 | ①-労働力や税金 | ②-公共サービスや補助金 |
| 4 | ①-公共サービスや補助金 | ②-労働力や税金 |

<資料Ⅳ>需要と供給と価格の関係



問6 下線部 f に関連して、資料Ⅳは需要と供給と価格の関係を表したものです。価格が150円の時、市場のはたらきによって、その後価格はどのように変化しますか。次の1～4から一つ選び、数字で答えなさい。

- 1 需要量が供給量より多いため、価格は下がる。
- 2 需要量が供給量より多いため、価格は上がる。
- 3 需要量が供給量より少ないため、価格は下がる。
- 4 需要量が供給量より少ないため、価格は上がる。

問7 下線部 f に関連して、農家が生産（一次産業）だけでなく、食品加工（二次産業）などと販売（三次産業）などを組み合わせる農業活性化のための取り組みを何といいますか。

問8 下線部 g を実現するための取り組みとして 3 R があります。それを説明した次の文中（ A ）～（ C ）に入る語句の正しい組み合わせを、下の 1～6 から一つ選び、数字で答えなさい。

3 R は、環境に配慮した 3 つの行動の頭文字です。（ A ）はマイバックを使うなど、ごみの発生を減らすこと。（ B ）は容器を繰り返し使うこと。（ C ）はペットボトルや缶を分別し、ごみを資源として再利用することです。

- | | | | |
|---|---------|---------|---------|
| 1 | Aーリサイクル | Bーリデュース | Cーリユース |
| 2 | Aーリサイクル | Bーリユース | Cーリデュース |
| 3 | Aーリユース | Bーリデュース | Cーリサイクル |
| 4 | Aーリユース | Bーリサイクル | Cーリデュース |
| 5 | Aーリデュース | Bーリユース | Cーリサイクル |
| 6 | Aーリデュース | Bーリサイクル | Cーリユース |

