

令和6年度 九州国際大学附属高等学校

社 会 入 学 試 験 問 題

問題用紙（1～26 ページ） 試験時間（50 分）

注 意 事 項

1. 試験問題は、試験開始の合図があるまで開けないこと。
2. 試験開始後、問題冊子の印刷の不具合などに気付いた場合は手を挙げて監督者に申し出ること。
3. 解答は、すべて解答用紙に記入すること。
4. 携帯電話、計算機、アラーム等の使用は禁止する。
5. 体調不良等の場合は、監督者に申し出ること。
6. 問題用紙は、各自持ち帰ること。

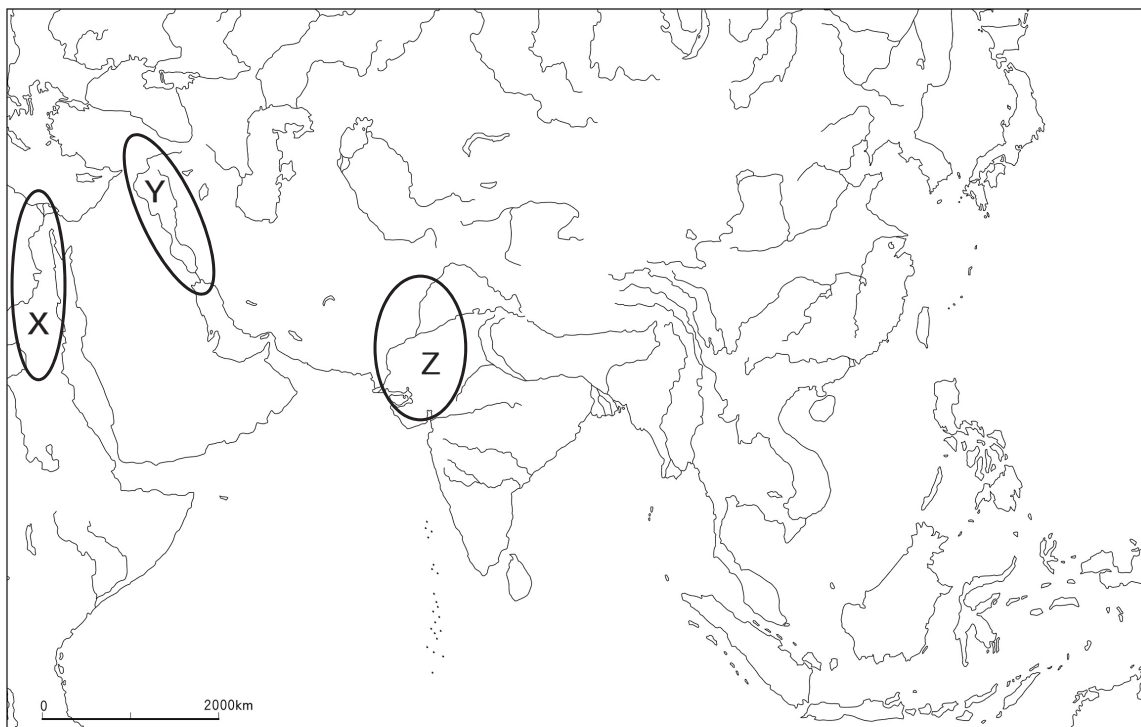
1 我が国の各時代の農業の特色と政治との関わりに関する表をみて、それぞれの問いに答えなさい。

<表>

時代	①農業	政治
原始	縄文時代は②動物・魚や貝・木の実など <u>自然の食料を採取していた</u> が、縄文時代末からは稲作が始まり、弥生時代には東北地方にまで広まった。	稲作が普及した弥生時代には、集団に指導者が現れるなど身分差が発生し、クニ(国)が各地に生まれた。
古代	農民は国から口分田を与えられて農業を行い、その代わりに租庸調などの税を納めた。	[③]
中世	公地公民制が崩れ、個人の④ <u>土地</u> である荘園が増加した。	武士が台頭し、摂関政治・院政を経て⑤ <u>武家政権(幕府)</u> が成立した。
近世	土地を持つ⑥ <u>本百姓</u> が農業を行い、領主に年貢を納めた。	⑦ <u>江戸幕府</u> が成立し、幕藩体制のもと⑧ <u>平和な時代が続いた</u> 。

問1 下線部①に関連して、農業と牧畜の始まりにより世界各地で文明が成立しました。次の地図上に示されたX～Zの場所と文明の正しい組み合わせを、次のページの1～6から一つ選び、数字で答えなさい。

<地図>



- | | | | |
|---|------------|------------|------------|
| 1 | Xーメソポタミア文明 | Yーインダス文明 | Zーエジプト文明 |
| 2 | Xーメソポタミア文明 | Yーエジプト文明 | Zーインダス文明 |
| 3 | Xーインダス文明 | Yーメソポタミア文明 | Zーエジプト文明 |
| 4 | Xーインダス文明 | Yーエジプト文明 | Zーメソポタミア文明 |
| 5 | Xーエジプト文明 | Yーメソポタミア文明 | Zーインダス文明 |
| 6 | Xーエジプト文明 | Yーインダス文明 | Zーメソポタミア文明 |

問2 下線部②に関連して、縄文時代の人びとの食生活がわかる、食べ残したものが積もったあとを何といいますか。漢字で答えなさい。

問3 表中の空欄③に入る文として正しいものを、次の1～4から一つ選び、数字で答えなさい。

- 1 中国の律令制度を取り入れた十七条の憲法を制定した。
- 2 律令制度のお手本となる中国へ使者を派遣した。
- 3 地方の豪族を国司に任命して、中央集権国家体制を地方に定着させた。
- 4 摂関政治では中央集権国家体制が強化され、地方の国司は廃止された。

問4 下線部④に関連して、土地の支配について述べた次の文A～Cを古い順に並べかえなさい。

- A ヨーロッパ諸国は工業原料や市場を海外に求め、アジア・アフリカの植民地化を進めた。
- B ヨーロッパ諸国は香辛料などのアジアの産物を手に入れるために植民地をつくっていった。
- C ローマ教皇は、イスラム教徒から聖地エルサレムを奪い返すために十字軍を派遣した。

問5 下線部⑤に関連して、次の資料ア～ウは鎌倉幕府・室町幕府・江戸幕府に関するものです。資料と幕府の正しい組み合わせを、下の1～6から一つ選び、数字で答えなさい。

- ア 正長元年九月、全国の土民が立ち上がった。徳政と言いつて、酒屋・土倉・寺院などを襲い…借用証書を破り捨てた。…管領はこの一揆を鎮圧した。
- イ 一、諸国の地頭が年貢などを手もとに抑えとどめること
…荘園領主が訴えたならば、その時は決算を行って点検を受けなければならない。…以上の趣旨に違反し不正を行うならば、地頭職をとり上げる。
- ウ 何事によらず五人組の中で法令に背くことはもちろん、悪事を働くものがあれば、その五人組からすぐに報告しなければならない。

- | | | | |
|---|--------|--------|--------|
| 1 | アー鎌倉幕府 | イー室町幕府 | ウー江戸幕府 |
| 2 | アー鎌倉幕府 | イー江戸幕府 | ウー室町幕府 |
| 3 | アー室町幕府 | イー鎌倉幕府 | ウー江戸幕府 |
| 4 | アー室町幕府 | イー江戸幕府 | ウー鎌倉幕府 |
| 5 | アー江戸幕府 | イー鎌倉幕府 | ウー室町幕府 |
| 6 | アー江戸幕府 | イー室町幕府 | ウー鎌倉幕府 |

問6 下線部⑥に関連して、江戸時代の百姓について述べた文として正しいものを、次の1～4から一つ選び、数字で答えなさい。

- 1 本百姓だけでなく土地を持たない百姓からも村役人が選ばれた。
- 2 百姓は菜種などの商品作物を栽培し、手に入れた貨幣で肥料や農具などを購入した。
- 3 百姓が納めた年貢米は、大名により「天下の台所」とよばれた江戸の蔵屋敷に送られた。
- 4 作業場に百姓を集めて賃金を支払い生産を行わせる問屋制家内工業が行われた。



問7 下線部⑦に関連して、江戸幕府の将軍ア・イと図a～cについて、将軍と最も関係のある図の正しい組み合わせを、下の1～4から一つ選び、数字で答えなさい。

ア 徳川家光 イ 徳川吉宗

a 公事方御定書を出す

b オランダ人を出島に移す

c 孔子を祭る聖堂を建てる



- 1 アーa
- 2 アーb
- 3 イーb
- 4 イーc

問8 下線部⑧に関連して、江戸時代は平和が続いたため町人文化が開花しました。下の図は江戸時代に優れた俳句を残した松尾芭蕉で、その横にある句は彼が『奥の細道』で詠んだものです。この句が詠まれた東北地方にある世界遺産として正しいものを、下の1～4から一つ選び、数字で答えなさい。



夏草や

兵どもが

夢の跡

- 1 中尊寺金色堂
- 2 巖島神社
- 3 姫路城
- 4 石見銀山

2 次の資料をみて、それぞれの問いに答えなさい。

〈資料 I〉

第一条 今後、日本の将軍とアメリカ合衆国とは、いつまでも仲よくしていくこと。

第三条 (X)・函館のほか、次の場所を左の期日より開くこと。

神奈川…西暦 1859 年 7 月 4 日

長 崎…西暦 1859 年 7 月 4 日

新 潟…西暦 1860 年 1 月 1 日

兵 庫…西暦 1863 年 1 月 1 日

もし新潟港を開けない事情があった場合は、その代わりとして、この近くに一港を別
に選ぶこと。神奈川開港後 6 か月にして (X) 港は閉鎖すること。

第六条 日本人に対し罪を犯したアメリカ人は、アメリカ領事裁判所において取り調べの上、
アメリカの法律によって処罰すること。アメリカ人に対して罪を犯した日本人は、日
本の役人が取り調べた上、日本の法律で処罰すること。

問 1 資料 I 中の (X) に当てはまる地名を漢字で答えなさい。

問 2 資料 I の第六条でアメリカに与えられた特権と、1894 年に調印された条約でその特権の撤廃
に成功した外務大臣との正しい組み合わせを、次の 1～4 から一つ選び、数字で答えなさい。

- 1 四民平等・小村寿太郎
- 2 四民平等・陸奥宗光
- 3 治外法権・小村寿太郎
- 4 治外法権・陸奥宗光

〈資料Ⅱ〉

1925年公布

第一条 国体を変更させたり、私有財産制度を否定したりすることを目的として[※]結社をつくり、または事情を知っていて加入した者は十年以下の懲役または禁錮にする。以上に該当する未遂罪も処罰する。

1928年改正

第一条 国体を変革する目的で[※]結社をつくった者、またその結社の役員、その他指導的な任務にあたった者は死刑または無期、もしくは五年以上の懲役か禁錮に処し、事情を知っていて加入した者、または結社の目的である国体を変革する行為をおこなった者は、二年以上の有期刑として、懲役か禁錮に処する。

[※]結社…共産主義や社会主義運動の組織

〈資料Ⅲ〉 農家の家計簿

年	地主の収入のうち小作料	小作人の支出のうち小作料
1912年	3,348円 (67.2%)	253円 (37.5%)
1920年	4,118円 (74.1%)	522円 (36.9%)

(多田吉三『日本家計研究史』より作成)

〈資料Ⅳ〉 おもな出来事

1917年	ロシア革命
1918年	米騒動
1919年	パリ講和会議開催
1921年	日本労働総同盟成立
1922年	日本農民組合結成
1925年	普通選挙法制定
1928年	第1回普通選挙実施

問3 資料Ⅱは1925年に公布され、1928年に改正された治安維持法の一部です。1925年公布時に内閣を組織していた政党と、その総裁との正しい組み合わせを、次の1～4から一つ選び、数字で答えなさい。

- 1 憲政会・加藤高明
- 2 憲政会・吉野作造
- 3 自由民主党・加藤高明
- 4 自由民主党・吉野作造

問4 資料Ⅱ・Ⅲ・Ⅳをみて、4人の生徒がグループで話し合いました。このうち、歴史的にみて適切とはいえない意見を述べている人が1人います。その1人とは誰か答えなさい。

あさみ：罰せられる対象が貧困や差別をなくそうとする人たちであるということは、この法律が公布された当時、日本では格差解消を求めるさまざまな運動が起きていたのではないか。

いつき：農家の家計簿によると、第一次世界大戦後も小作人の支出における小作料の割合は高いままとなっていて、生活が苦しい農民はたくさんいたのではないか。

うめこ：この法律が第一次世界大戦後に公布されたのは、大戦中に起こった革命で、初の社会主義国であるソ連や中華人民共和国が誕生したことが影響しているのではないか。

えいた：1928年の改正で、公布時のものよりも罪に対する罰が重くなっていることから、日本政府は共産主義や社会主義に対する取り締まりを強めたと言えるのではないか。

問5 次のA～Cは、資料Ⅱの後に起こった出来事を伝える新聞記事です。発行された年月日の古い順にA～Cを並べかえなさい。

A 「犬養首相ついに凶手に倒れる」

B 「大日本帝国、米英に宣戦を布告」



C 「連盟よさらば！ついに協力の方法つきる」



〈資料V〉 経済白書（1956年刊）

いまや経済の回復による浮揚力はほぼ使いつくされた。なるほど、貧乏な日本のことゆえ、世界の他の国々にくらべれば、消費や投資の潜在需要はまだ高いかもしれないが、戦後の一時期にくらべれば、その欲望の熾烈^{しれつ}さは明らかに減少した。もはや「戦後」ではない。われわれはいまや異なった事態に当面しようとしている。回復を通じての成長は終わった。今後の成長は近代化によって支えられる。そして近代化の進歩も速やかにしてかつ安定的な経済の成長によって初めて可能となるのである。

問6 次の1～4のうち、資料V発刊以後の出来事をすべて選び、数字で答えなさい。


1 日本国憲法公布



2 石油危機



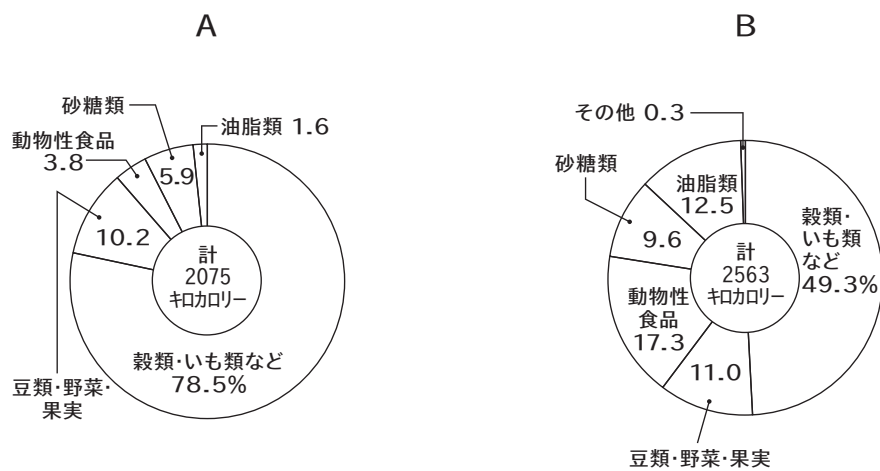
3 東京五輪開催



4 国際連合の発足



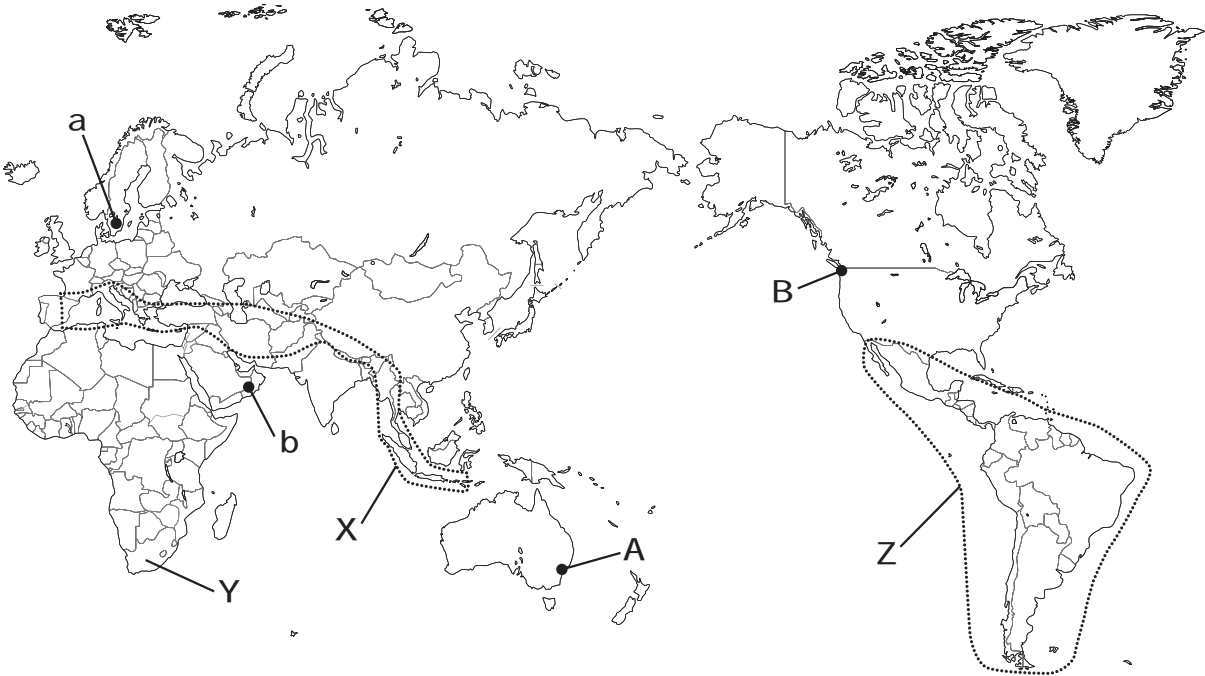
問7 次の円グラフは、日本人がとるカロリー構成を食品別に示しています。どちらかが第二次世界大戦中で、もう一方は高度経済成長期後のものです。A・Bのうち、高度経済成長期後のグラフを選びなさい。また、そのグラフを選んだ理由を説明しなさい。



3

次の略地図と資料をみて、それぞれの問いに答えなさい。

〈略地図〉



〈資料 I〉


ア



イ



ウ



エ



問1 資料Ⅰのア～エの写真のうち2枚は、略地図中のaとbのいずれかでみられる住居です。その正しい組み合わせを、次の1～4から一つ選び、数字で答えなさい。

- 1 アーa ウーb 2 イーa ウーb
3 アーa エーb 4 イーa エーb

問2 略地図中X内に関する説明文①と②の正誤の正しい組み合わせを、下の1～4から一つ選び、数字で答えなさい。

- ① アルプス山脈をはじめ険しい山脈や山地が多く分布しており、世界最高峰のエベレストも含まれる。
② プレートの境界が位置する造山帯であり、地震や火山活動などの災害が多く発生する。

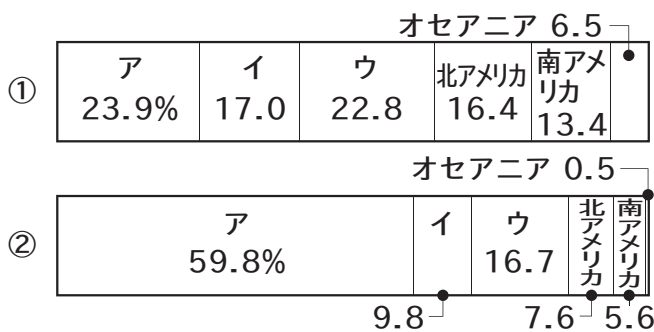
- 1 ①ー正 ②ー正 2 ①ー正 ②ー誤
3 ①ー誤 ②ー正 4 ①ー誤 ②ー誤

問3 略地図中の都市Aが2月1日17時の時、都市Bは何月何日何時か答えなさい。なお、都市Aは東経150度に位置し、都市Bは西経120度に位置しています。

問4 略地図中Y国で、1990年代はじめに廃止された人種隔離政策を答えなさい。

問5 略地図中Z内に多くの植民地をつくった国の民族名を答えなさい。

〈資料Ⅱ〉世界の面積・人口に占める各州の割合



※ロシアはヨーロッパ州に含んでいます。

(『Demographic Yearbook 2018』より作成)

問6 資料Ⅱ中の①・②は、世界人口(76億5400万人)か陸地面積(1億3009万km²)のいずれかです。また、資料Ⅱ中のア～ウはヨーロッパとアジアとアフリカのいずれかです。陸地面積とアフリカとの正しい組み合わせを、次の1～6のうちから一つ選び、数字で答えなさい。

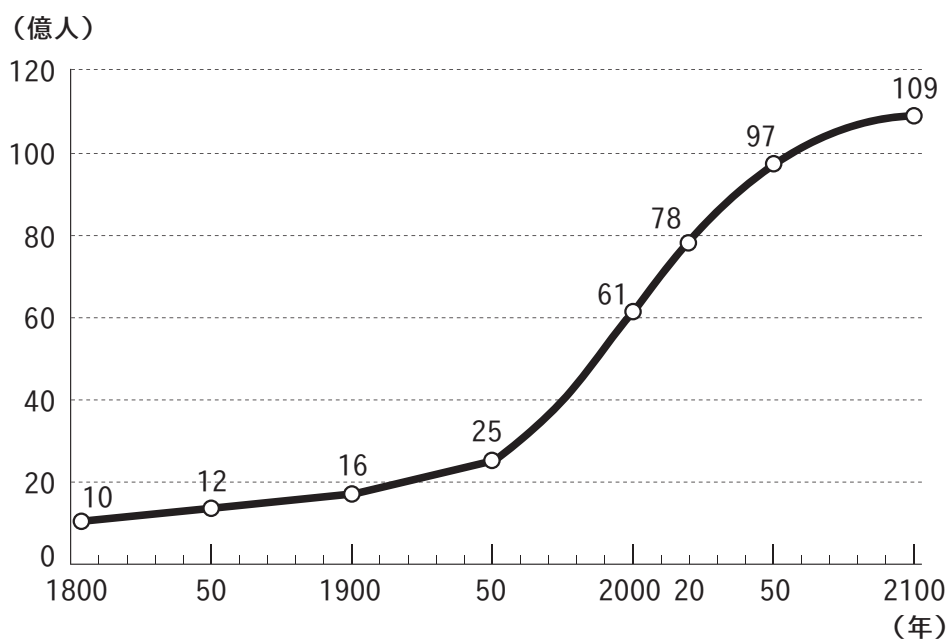
- 1 ①ーア 2 ①ーイ 3 ①ーウ
4 ②ーア 5 ②ーイ 6 ②ーウ

〈資料Ⅲ〉 1950年と2020年の国別人口上位10カ国

順位	1950年		2020年	
	国名	総人口	国名	総人口
1	中国	5億5,500万人	中国	14億3,900万人
2	インド	3億5,800万人	インド	13億8,000万人
3	アメリカ合衆国	1億5,800万人	アメリカ合衆国	3億3,100万人
4	ロシア	1億200万人	インドネシア	2億7,400万人
5	日本	8,400万人	パキスタン	2億2,100万人
6	インドネシア	7,900万人	ブラジル	2億1,300万人
7	ドイツ	6,800万人	ナイジェリア	2億600万人
8	ブラジル	5,400万人	バングラデシュ	1億6,500万人
9	イギリス	5,100万人	ロシア	1億4,600万人
10	イタリア	4,700万人	メキシコ	1億2,900万人

※ 2020年の日本の総人口は1億2,600万人で11位

〈資料Ⅳ〉 世界人口の推移と統計



(1900年以前は国連の『The Determinants and Consequences of Population Trends』
1950年以降は国連の『中位推計』より作成)

問7 資料Ⅲと資料Ⅳをみながら、勉強している高校生のゆきさんとえいとくんの会話文を読み、その内容の誤っているものを、次の1～4から一つ選び、数字で答えなさい。

- 1
- ゆき：2020年の世界人口は78億人もいるけど、1950年は25億人しかないのね。
 - えいと：そうだね、1950年以降、急激に世界人口が増加したんだよ。たった70年間で3倍以上も世界人口が増えたんだよ。
 - ゆき：世界経済の成長や発展途上国の公衆衛生の普及にしたがって、人口が増加したわけね。
- 2
- えいと：1950年から2020年の間にどこの人口が増えたんだらう。
 - ゆき：人口上位10カ国でみると、アジア地域での人口増加が目立っているわね。
 - えいと：中国の人口の多さは目立っているけど、インドやインドネシアの方が、人口増加率は高いよ。
- 3
- ゆき：2050年の世界人口は、97億人に達すると予測されているわ。
 - えいと：今後も世界人口は増加傾向にあるから、僕らが生きている間に世界人口100億を超える可能性も十分にあるね。
 - ゆき：1850年からの100年間と、1950年からの100年間の人口増加数を比べてみたけど、8倍以上も増加数に開きがあるわ。
- 4
- えいと：人口上位3カ国は変わっていないけど、1950年時点で日本は5番目に人口が多い国だったんだね。
 - ゆき：2020年では日本だけでなく、西ヨーロッパの国々も上位10カ国から外れてしまったわ。同じ先進国のアメリカ合衆国は2倍以上人口が増えているのに。
 - えいと：日本だって70年間で1.5倍の4000万人以上も人口が増えているのに、それ以上に他の国の人口が増えたということだね。

問8 かつて中国が実施していた人口抑制策名をあきらかにしつつ、それにともない現在中国でおこっている問題を簡潔に説明しなさい。

〈資料V〉食料自給率（％）

	小麦	いも類	野菜類	果実類	肉類
①	190	116	73	57	98
②	72	60	183	135	125
ドイツ	152	117	40	25	114
③	82	75	38	5	69

（『2018年食料需給表』より作成）

問9 資料V中の①～③はイギリス、フランス、スペインのいずれかです。これらの正しい組み合わせを、次の1～6から一つ選び、数字で答えなさい。

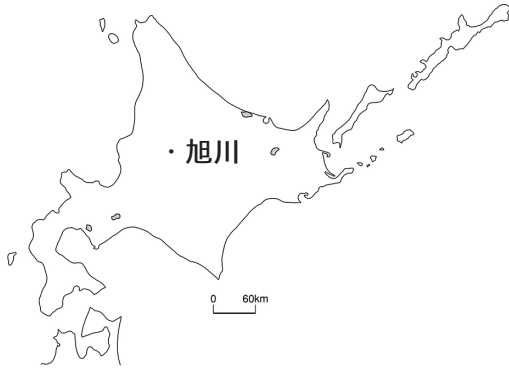
- | | | | |
|---|--------|--------|--------|
| 1 | ①－イギリス | ②－フランス | ③－スペイン |
| 2 | ①－イギリス | ②－スペイン | ③－フランス |
| 3 | ①－フランス | ②－イギリス | ③－スペイン |
| 4 | ①－フランス | ②－スペイン | ③－イギリス |
| 5 | ①－スペイン | ②－イギリス | ③－フランス |
| 6 | ①－スペイン | ②－フランス | ③－イギリス |

4

次の文を読み、またカード①～⑥をみて、それぞれの問いに答えなさい。


全国各地の押し麺、イケ麺を調べカードにまとめました。これらの地域について、それぞれの特徴をみていきます。

〈カード①〉旭川ラーメン（北海道）




旭川はアイヌの言葉で「チュプ・ペツ」が語源で、明治時代以降開拓がすすみました。養豚業が盛んだったこともあり、廃棄する骨まで活用しようと豚骨のスープが考え出されました。豚骨の強い匂いを消し、なおかつ良い風味を加える工夫として、煮干しや昆布など魚介類を合わせるようになったとされています。

〈カード②〉稲庭うどん（秋田県）



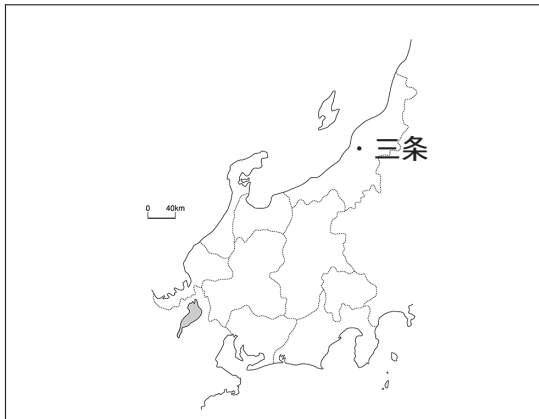
江戸時代の初期に稲庭地区小沢で、地元産の小麦粉を使って干しうどんを製造したのが始まりとされています。なめらかな舌ざわりと、つるつるとしたのどごしで、この上なく上品で昔から食通の人たちの評価も高く、殿様への献上品としても利用されていました。

〈カード③〉佐野ラーメン（栃木県）



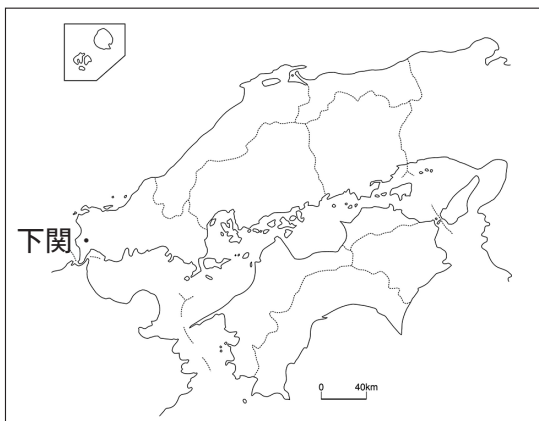
大正初期、当地に住んでいた中国人が伝授し、地域の人々の感覚で育てられ現在の味の基礎を作りました。織物が盛んな頃に繊維業者や深夜まで働く女性従業者などを相手に広まりました。値段が安く子供から老人にいたるまで好んで食べられました。近くには湧き水があり、良質の水に恵まれ、この水で練られた小麦の生地を使っているのがその美味しさの秘密でもあります。

〈カード④〉 三条カレーラーメン（新潟県）



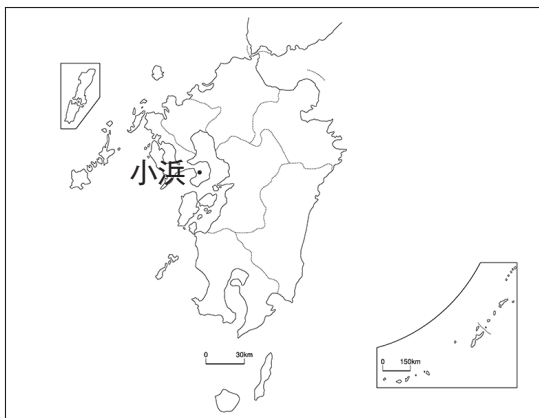
歴史は古く、70年前から地元で愛されていました。三条市は金物職人の街であり、カレーラーメンは職人たちのソウルフードとなりました。多忙な仕事の合間にすぐに食べることができる上に、栄養価が高くておいしいことが人気の理由です。ラーメンにカレーをのせたスタイルやつけ麺風や冷やしなども登場しています。

〈カード⑤〉 瓦そば（山口県）



明治10年の西南戦争において、熊本城を囲む兵士たちが長い野戦の合間に野草や肉などを瓦で焼いて食べたという話にヒントを得た川棚温泉（下関）の名物料理です。鉄板で茶そばを焼き、焼きあがったそばを直火で熱した瓦の上に乗せ、牛肉、錦糸卵、海苔、もみじおろし、レモンなどの具材を盛りつけ、専用の温かいつゆにつけて食べます。

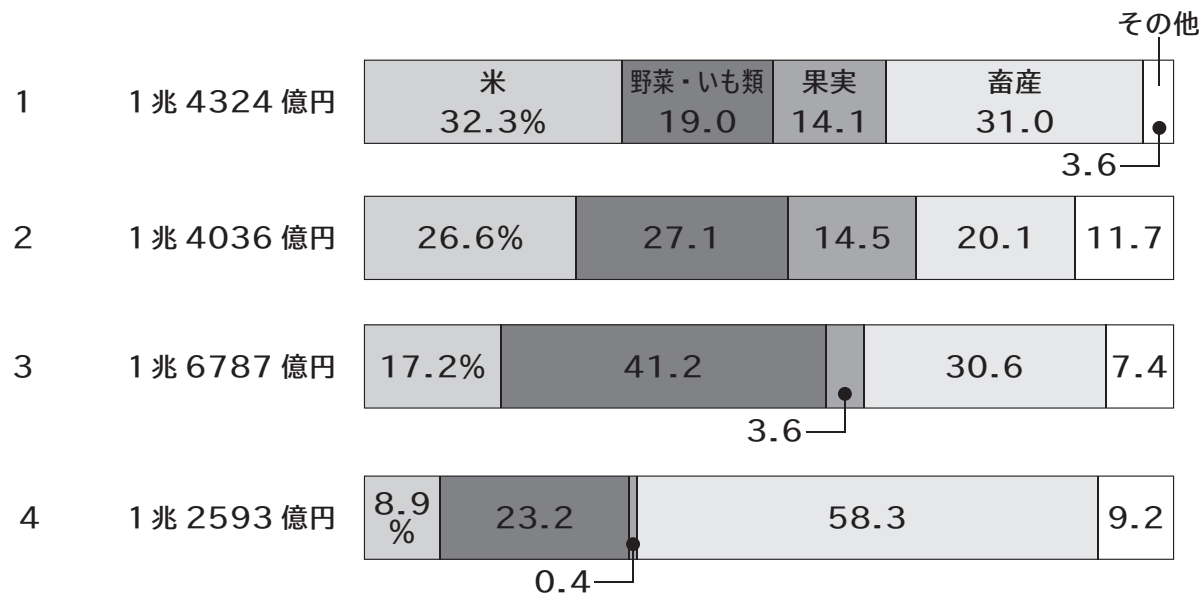
〈カード⑥〉 小浜ちゃんぽん（長崎県）



中国の影響を受けて日中混合の庶民の味として、名物の一つとなりました。明治時代から温泉地としてにぎわい、100年以上前から名物料理として古くから親しまれています。豚骨や鶏ガラをベースに特産のカタクチイワシでダシを取った、まろやかなスープが特徴です。

問1 カード①について、アイヌ語に起源をもつ北海道庁所在地名を漢字で答えなさい。

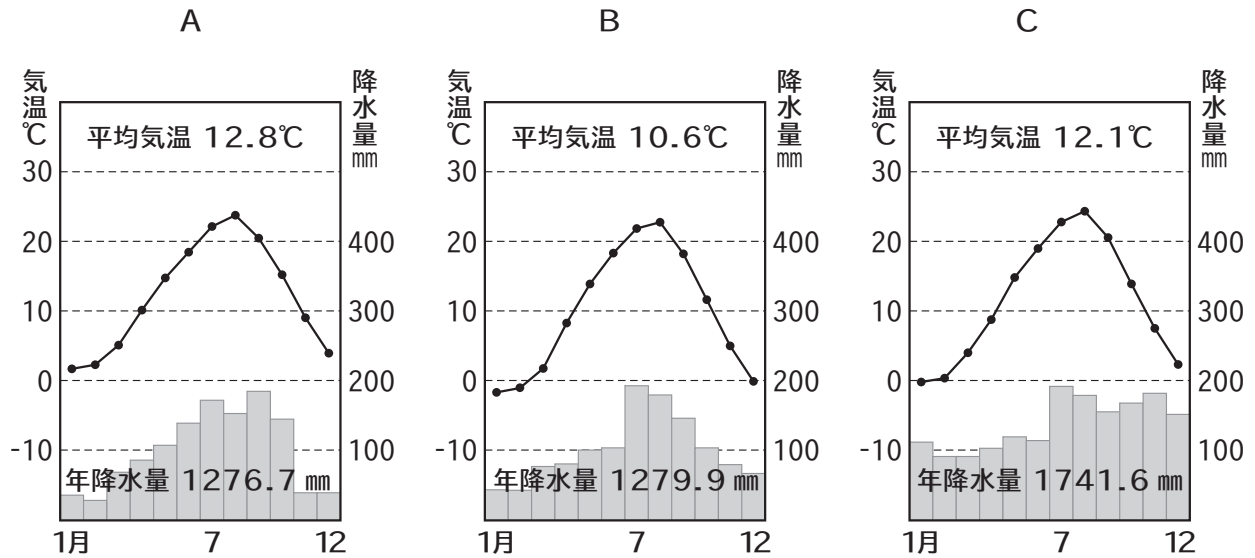
〈資料 I〉 主な農業地域の農業産出額の内訳



(『2018年 生産農業所得統計』より作成)

問2 カード①について、北海道は第1次産業が盛んな地域です。資料 I 中の1~4は北海道、東北、関東、中部のいずれかです。北海道にあてはまるものを1~4から一つ選び、数字で答えなさい。

〈資料Ⅱ〉



(『理科年表 2020』ほかより作成)

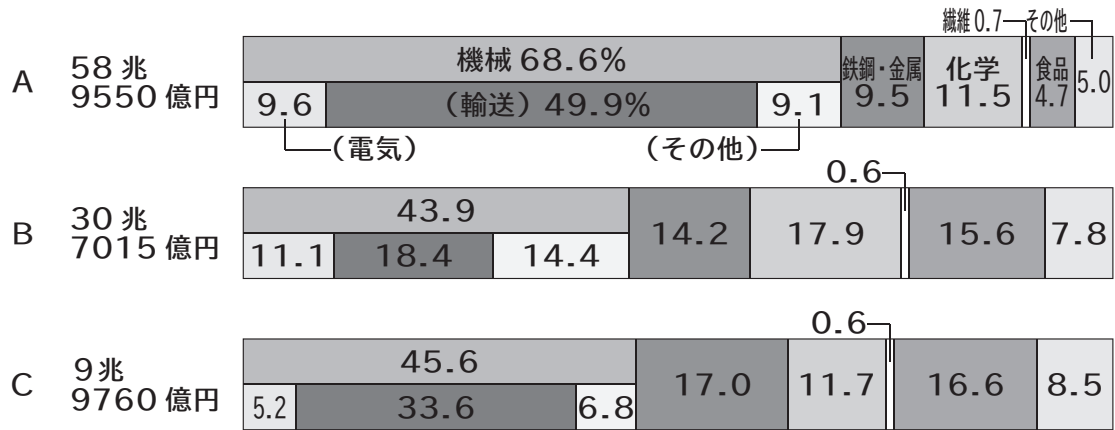
問3 カード②について、東北地方は古くから寒さに強い小麦やそばの栽培が広く行われてきました。資料Ⅱの雨温図は県庁所在地である秋田、盛岡、仙台のいずれかです。これらの正しい組み合わせを、次の1～6から一つ選び、数字で答えなさい。

- | | | | |
|---|------|------|------|
| 1 | A－秋田 | B－盛岡 | C－仙台 |
| 2 | A－秋田 | B－仙台 | C－盛岡 |
| 3 | A－盛岡 | B－秋田 | C－仙台 |
| 4 | A－盛岡 | B－仙台 | C－秋田 |
| 5 | A－仙台 | B－秋田 | C－盛岡 |
| 6 | A－仙台 | B－盛岡 | C－秋田 |

問4 カード③について、北関東内陸部の風土を説明した文として誤っているものを、次の1～4から一つ選び、数字で答えなさい。

- 1 冬の季節風により、平野部では豪雪地帯となっている。
- 2 夏は高温になる日もみられ、山沿いでは雷雨が発生しやすい。
- 3 家の周りには屋敷林が北側から西側に植えられている。
- 4 夏と冬の気温の寒暖差が大きい。

〈資料Ⅲ〉 主な工業地域の工業出荷額の内訳



(『2020年 工業統計表』より作成)

問5 カード③について、北関東はかつて繊維工業の盛んな地域で、現在は広い土地を活用し工業が発展してきました。資料Ⅲ中のA～Cは北関東、中京、北九州のいずれかです。これらの正しい組み合わせを、次の1～6から一つ選び、数字で答えなさい。

- 1 A－北関東 B－中京 C－北九州
- 2 A－北関東 B－北九州 C－中京
- 3 A－中京 B－北関東 C－北九州
- 4 A－中京 B－北九州 C－北関東
- 5 A－北九州 B－北関東 C－中京
- 6 A－北九州 B－中京 C－北関東

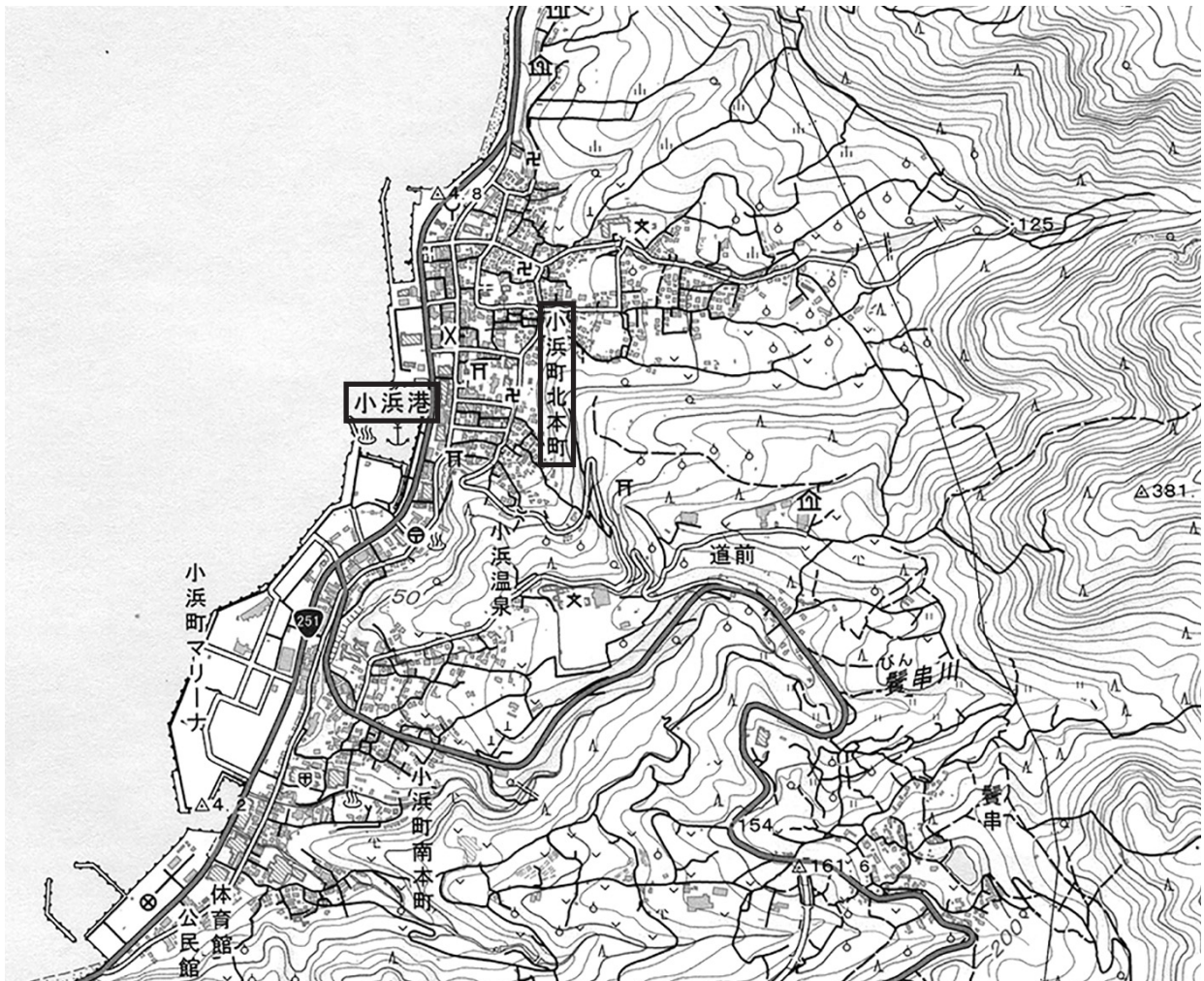
問6 カード④について、三条市では金物生産が盛んです。古くから受け継がれてきた技術や、地元でとれる原材料などを生かし、地域と密接に結びついて発達してきた産業の事を何といいますか。漢字で答えなさい。

問7 カード⑤について、山口県に関する説明文AとBの正誤の正しい組み合わせを、下の1～4から一つ選び、数字で答えなさい。

- A 輸出入が便利な臨海部では、石油化学工業や造船業などの重化学工業が発達している。
- B 秋吉台には石灰岩のカルスト地形が広がり、鍾乳洞には多くの観光客が訪れている。

- 1 A－正 B－正 2 A－正 B－誤
- 3 A－誤 B－正 4 A－誤 B－誤

〈資料Ⅳ〉



(2万5千分の1地形図「肥前小浜」平成31年1月より作成)

問8 カード⑥について、資料Ⅳは小浜町の地形図です。資料Ⅳから読みとれることとして誤っているものを、次の1～4から一つ選び、数字で答えなさい。

- 1 小浜港の海岸沿いには、温泉がある。
- 2 小浜港の北には、警察署がある。
- 3 小浜町北本町北部には老人ホームがある。
- 4 小浜町北本町東部の山の斜面には、果樹園が広がっている。

5

次の博幸さんと和美さんの会話文や資料をみて、それぞれの問いに答えなさい。

博幸：2023年の年頭のあいさつで岸田首相は、子ども政策や防衛力の強化、エネルギー政策など「覚悟を持って、先送りできない問題への挑戦を続ける」と言っていたよね。

和美：そうね。そして1月末には、過去最大の114兆円をこえる a 新年度予算案を審議する国会も開かれて、予算案以外についてもさまざまな議論が行われたわ。

博幸：子ども政策についてはどうなの？

和美：戦後日本では、資料Ⅰが示すように（A）が進んでいるの。そうした中で働きながら安心して子育てができる環境の整備や、教育費の負担を減らすなどやるべきことは多いわ。岸田首相も「異次元の（A）対策に挑戦する」と言っていたわ。

博幸：そういう意味でも子ども政策の司令塔として、4月に発足した「こども家庭庁」に対する期待は大きいね。

では防衛力の強化についてはどうなったの？

和美：強化される方向で決まったわ。

博幸：でも日本は、可能な限り武力を使うことを避け、外交交渉など平和的手段によって問題の解決を目指す、b 平和主義の考え方を基本にしているんだよね。

和美：そうよ。日本は世界で唯一の核兵器による被爆国として平和主義を貫き、戦後一度も戦争を行わなかったことは世界からも高く評価されているの。また、核兵器の廃絶を求める運動や c 国連での議論で重要な役割を果たしているわ。

博幸：そういえば5月には被爆地（B）で、G7の（B）サミットも開催されたよね。資料Ⅱはその時のものだよ。

エネルギー政策についてはどうなの？

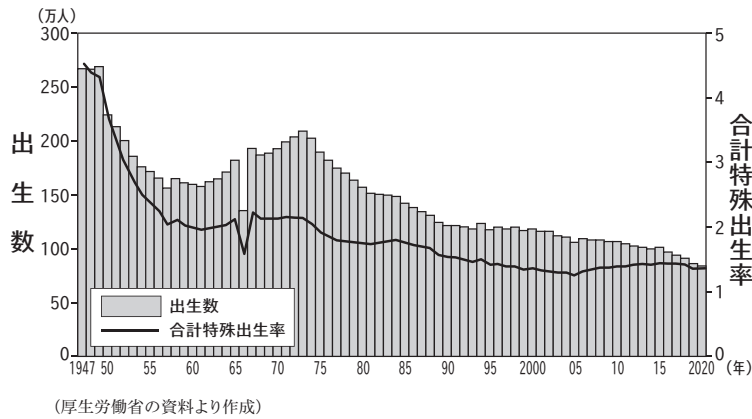
和美：d 地球温暖化の問題に対応するためにも、脱炭素社会の実現は急がれているわ。でも経済の発展とエネルギーの安定供給、安全性とコストの面など原子力発電の問題も含めて慎重な議論が必要ね。

博幸：7月には北部九州でも線状降水帯が発生し、大雨による被害も出たよね。

和美：子ども政策や防衛力の強化、エネルギー政策など日本の将来を考えるうえでも重要なことばかりよね。政治家の人たちは e 選挙の結果ばかりを考えないで、国民が納得できる議論を展開してほしいわ。

博幸：そうだね。そして f 主権者である自分たちも政治に関心を持ち、投票に行くなどして政治に影響を与える必要があるよね。

〈資料Ⅰ〉子どもの出生数と合計特殊出生率の推移



〈資料Ⅱ〉



問1 会話文中の (A)・(B) にあてはまる語句を漢字で答えなさい。

問2 下線部 a として正しいものを、次の 1～4 から一つ選び、数字で答えなさい。

- 1 特別会 2 臨時会 3 緊急集会 4 常会

問3 下線部 b についての説明文①と②の正誤の正しい組み合わせを、下の 1～4 から一つ選び、数字で答えなさい。

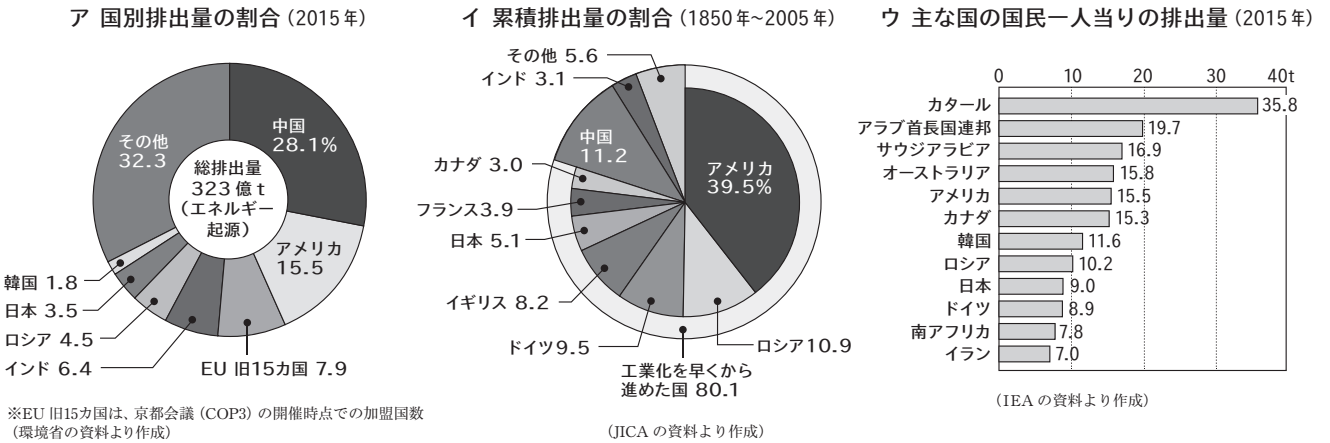
- ① 平和主義を実現する具体的な例として、核兵器を「持たず、つくり、持ち込ませず」という非核三原則の考え方がある。
- ② 平和主義を実現する具体的な例として、「自衛隊の最高指揮権は文民である内閣総理大臣がもつ」というシビリアン・コントロールの考え方がある。

- 1 ①－正 ②－正 2 ①－正 ②－誤
- 3 ①－誤 ②－正 4 ①－誤 ②－誤

問4 下線部 c に関連して、2017 年に国連で採択された条約で、日本が不参加の立場を示しているものとして正しいものを、次の 1～4 から一つ選び、数字で答えなさい。

- 1 気候変動枠組条約 2 生物多様性条約
- 3 核兵器不拡散条約 4 核兵器禁止条約

〈資料Ⅲ〉 3つの観点からみた二酸化炭素の国別排出量



問5 下線部dについて、資料Ⅲから読みとれることとして誤っているものを、次の1~4から一つ選び、数字で答えなさい。

- 1 アのグラフでは中国とアメリカで全体の40%以上を占めている。
- 2 イのグラフで日本は上位5カ国に入っている。
- 3 ウのグラフで上位にある国は産油国が多い。
- 4 アのグラフで上位の中国やインドは、ウのグラフにはみられない。

問6 下線部eについての説明文①と②の正誤の正しい組み合わせを、下の1~4から一つ選び、数字で答えなさい。

- ① 財産や性別による差別がなく選挙権が認められることを平等選挙という。
- ② 海外で暮らす日本国民が、海外から投票できる制度を不在者投票制度という。

- 1 ①-正 ②-正 2 ①-正 ②-誤
- 3 ①-誤 ②-正 4 ①-誤 ②-誤

問7 下線部fに関連する、文中の波線部1~3の語句がすべて正しい場合は○を、誤っている場合はその数字をすべて答えなさい。

新聞やテレビなどの 1 マスメディア は、政治に関する情報を得る手段として大きな役割を担っています。しかし最近では、意図的に拡散された虚偽の情報である 2 フェイクニュース によって、人々の政治的判断に影響を及ぼす危険性が問題になっています。私たちはあふれる情報の中から、どの情報が的確であるかを判断する能力である、3 デジタルデバインド を身につけることが必要になってきています。

6 次の資料をみて、それぞれの問いに答えなさい。

〈資料Ⅰ〉

国の経済状態を表わす指標として、最も一般的なのは、a 国内総生産（GDP）です。経済成長とは、GDPが年々大きくなることをいい、GDPの1年間の増加率が経済成長率です。安定した経済成長のもとでは人々の所得も増え、企業の生産量も、b 雇用も増加します。逆に経済成長がマイナスになると生産量が減り、倒産する企業が増え、失業する人も出てきます。このように、経済状況は常に一定な訳ではないですが、私たちの生活にとっては、経済はなるべく安定していることが望まれます。

政府は、財政活動を通じて資源配分、c 所得の再分配、経済の安定化といった政策を実施しています。そのため政府は、毎年予算を立てて、計画に沿って必要な政策を行っています。政府の日常的な活動にあてる予算を一般会計予算、特別な目的にあてる予算を特別会計予算といいます。財政活動を行うために集められる一年間の収入を歳入、支出を歳出といいます。歳入の中心となるのが、私たちの納める税金です。歳出の中で現在最も大きな割合を占めているのは社会保障関係費です。d 高齢社会の進展とともに、社会保障関係費は今後さらに増加することが予想されます。

〈資料Ⅱ〉

私たちの毎日の生活は、個人で消費する財だけではなく、人々が共同で利用する公共施設によって支えられています。どちらもバランスよく利用できることが、豊かさやゆとりのある生活にとって大切です。道路、橋、空港などの交通網や、上下水道、図書館などの施設といった（ X ）は、国や地方自治体による公共事業として整備されます。

今後も進む高齢社会においては、（ X ）の維持と質の改善は大きな課題です。e 高度経済成長期に整備された（ X ）は徐々に老朽化していて、防災や減災に配慮した改修には大きな費用がかかります。また、f 高齢者や障がいのある人のために、公共の場における利用しやすい設備の充実（資料Ⅴ）や、わかりやすい標識の工夫（資料Ⅵ）、はじめから誰もが利用しやすい設計（資料Ⅶ）にすることも重要です。

問1 下線部aとは1年間に新たに生み出される何の合計ですか。正しいものを、次の1～4から一つ選び、数字で答えなさい。

- 1 価格 2 原材料費 3 所得 4 付加価値

問2 下線部bに関連して、近年これまでの日本的な雇用形態が変化していく中で、正社員と非正規労働者の経済的格差が問題となっています。非正規労働者に多くみられる、仕事があるのにもかかわらず貧困状態にある人々を何といいますか。カタカナで答えなさい。

〈資料Ⅲ〉

個人の所得税率一覧

課税所得金額	所得税率
195万円以下	5%
330万円以下	10%
695万円以下	20%
900万円以下	23%
1,800万円以下	33%
4,000万円以下	40%
4,000万円超	45%

問3 下線部cに関連して、所得税に適用されている資料Ⅲのような制度を何といいますか。漢字で答えなさい。

問4 下線部dの到来にともなって2000年に導入された介護保険は、何歳から加入する制度ですか。正しいものを、次の1～4から一つ選び、数字で答えなさい。

- 1 20歳 2 30歳 3 40歳 4 60歳

問5 資料Ⅱ中の(X)にあてはまる語句を漢字4字で答えなさい。

〈資料Ⅳ〉国の一般会計予算の内訳（％）

歳入

年度	租税等	公債金	その他
A	44.7	29.5	25.8
B	74.7	16.3	9.0
C	60.6	34.3	5.1

歳出

年度	社会保障 関係費	公共事業 関係費	防衛 関係費	恩給 関係費	国債費	地方財政 関係費	その他
A	0.7	7.4	44.8	7.6	16.9	0.3	22.3
B	16.4	18.7	7.7	4.0	1.0	18.7	33.5
C	33.7	5.6	5.0	0.1	22.6	14.8	18.2

（「財務省資料」より作成）

問6 下線部eについて、資料Ⅳ中の語句を用いて次の文中の（あ）と（い）にあてはまる語句を答えるとともに、（う）にあてはまるものを資料Ⅳ中のA～Cから一つ選び、文を完成させなさい。

他年度に比べて、歳入においては（あ）の割合が高く、歳出においては（い）の割合が低いため、（う）年度が高度経済成長期を表しています。

資料V



資料VI



資料VII



問7 下線部 f を参考にして、資料V～資料VIIと語句との正しい組み合わせを、下の1～6から一つ選び、数字で答えなさい。

- | | | |
|----------------|---------------|----------------|
| 1 Vーピクトグラム | VIーバリアフリー | VIIーユニバーサルデザイン |
| 2 Vーピクトグラム | VIーユニバーサルデザイン | VIIーバリアフリー |
| 3 Vーバリアフリー | VIーピクトグラム | VIIーユニバーサルデザイン |
| 4 Vーバリアフリー | VIーユニバーサルデザイン | VIIーピクトグラム |
| 5 Vーユニバーサルデザイン | VIーピクトグラム | VIIーバリアフリー |
| 6 Vーユニバーサルデザイン | VIーバリアフリー | VIIーピクトグラム |