

平成 30 年度 九州国際大学附属高等学校

社 会 入 学 試 験 問 題


問題用紙（1～26 ページ） 試験時間（50 分）

注 意 事 項

1. 試験問題は、試験開始の合図があるまで開けないこと。
2. 試験開始後、問題冊子の印刷の不具合などに気付いた場合は手を挙げて監督者に申し出ること。
3. 解答は、すべて解答用紙に記入すること。
4. 携帯電話、計算機、アラーム等の使用は禁止する。
5. 体調不良等の場合は、監督者に申し出ること。
6. 問題用紙は、各自持ち帰ること。

1

次の先生とマサトくんの会話文をみて、それぞれの問いに答えなさい。



マサト：これは関ヶ原の戦いを描いた屏風びょうぶですね。

先生：はい。右上にある丸に十字の旗は、現在の（ X ）の戦国大名島津氏のものです。さて、武士といえば刀のイメージが強いですが、この絵を見ていてあることに気づきませんか。

マサト：刀より槍やりをもっている人が多いみたいだ。

先生：そのとおり。足軽いくきが戦aに登場したころから、槍が主な武器になったようです。

マサト：できるだけ相手に近づかないように、ということか。鉄砲をもっている人もいますね。

先生：16世紀に、日本に鉄砲が伝わると、鉄砲は戦を左右するほどの武器になりました。それより前の飛び道具では、弓が重視されていました。

マサト：確かに男衾おぶすまさぶろう えまき三郎絵巻に出てくる武士たちも、よく弓を手にしてしていますね。

先生：あれは鎌倉時代の武士の様子を描いたものですが、同時期の蒙古襲来もうこうしゅうらい えことば絵詞にも弓をもつ武士が多数描かれています。刀を手にする姿は少ないですね。

マサト：じゃあ、テレビなどでよく見る刀と脇差わきざしの二本を腰に下げた武士のイメージは、いつごろのものなんですか。

先生：「二本差し」は主に江戸時代dの武士です。ちなみに、そうした武士がもつ反った刀身の刀は、平安時代eの後期に広まったそうです。

マサト：そういえば、5世紀fのものである（ Y ）などから見つかる刀や剣はまっすぐですね。

先生：なお、そのころは刀や剣が副葬品としても使われていました。

マサト：今後、博物館gで刀や剣を見るとき、今までとは違う見方ができそうです。

問1 文中の(X)・(Y)にあてはまる語句の組み合わせとして正しいものを、次のア～エから一つ選び、記号で答えなさい。

- ア X 鹿児島 Y 吉野ヶ里遺跡 イ X 鹿児島 Y 稲荷山古墳
ウ X 山口 Y 吉野ヶ里遺跡 エ X 山口 Y 稲荷山古墳


問2 下線部 a について、足軽が戦に登場したころの世の中の風潮で、下の立場の者が上の立場の者を倒して台頭することを何といいますか。漢字で答えなさい。

問3 下線部 b について、日本への鉄砲伝来の時代的背景には、ヨーロッパ諸国のアジア進出があります。特に当時のヨーロッパはアジアで「香辛料」を求めましたが、その理由をヨーロッパの食生活の点から、10字以内で答えなさい。(句読点は記入しないこと)

〈資料Ⅰ〉



〈資料Ⅱ〉



問4 下線部cについて、資料Ⅰ・Ⅱからわかることを説明した文として誤っているものを、次のア～エから一つ選び、記号で答えなさい。

- ア 資料Ⅰからは、簡素な小屋で定期市がおこなわれていたことがわかる。布や穀物、つぼなどを売っている人がいる。
- イ 資料Ⅰからは、定期市が武士の商売の場だったことがわかる。市に女性や子どもの姿はなく、立ち寄ろうとした僧は追い出されている。
- ウ 資料Ⅱからは、当時の武士の屋敷のゆかは一部に板張りの部分もあり、まだ室内に畳を敷きつめるのが一般的ではなかったことがわかる。
- エ 資料Ⅱからは、武士があぐらをかくように座っていることがわかる。当時は室内で椅子に座ったり正座をしたりすることは少なかった。

問5 下線部 d について、日本が江戸時代であった 17～18 世紀の欧米を説明した文として誤っているものを、次のア～エから一つ選び、記号で答えなさい。

ア 17 世紀のイギリスでは、クロムウェルら議会派の人びとがピューリタン革命をおこし、国王を処刑して共和政治をはじめた。

イ 18 世紀のフランスでは、国王の圧政に苦しんだ市民らが一部の貴族とともにフランス革命をおこし、人権宣言を出した。

ウ 18 世紀のスペインでは、南米などからもち帰った大量の銀で軍備が整えられ、清に進出してアヘン戦争を引きおこした。

エ 18 世紀のアメリカでは、フランスなどから支援を受けたワシントンが独立戦争に勝利し、初代大統領となった。

問6 下線部 e の説明文として誤っているものを、次のア～エから一つ選び、記号で答えなさい。

ア 平安時代初期には、朝廷は律令国家の支配に抵抗する蝦夷^{えみし}と戦い、坂上田村麻呂によってその多くがしずめられた。

イ 平安時代中期には、地方で不正をはたらく国司が増えて行政が乱れ、人びとに悪政を訴えられる国司もあらわれた。

ウ 平安時代には漢字を簡単にした、かな文字が広まり、紫式部の『源氏物語』や清少納言の『枕草子』などが生まれた。


エ 平安時代には御伽草子^{おとぎぞうし}とよばれる絵本がつくられたり、貴族の失敗を笑いとばした狂言という喜劇が生まれたりした。

〈資料Ⅲ〉



問7 下線部 f について、資料Ⅲは古墳時代に大陸から伝わった土器です。高温で焼かれた灰色で硬質なこの土器の名前を漢字で答えなさい。

〈資料Ⅳ〉



問8 下線部gについて、東京国立博物館には、刀や剣のほかさまざまな文化物が収蔵されています。資料Ⅳもその一つです。この絵画が描かれた時代を説明した文として誤っているものを、次のア～エから一つ選び、記号で答えなさい。

- ア 尚氏が沖縄本島を統一して首里を都とする琉球王国が生まれ、明・日本・朝鮮などとの間で中継貿易をして栄えた。
- イ 松平定信によって寛政の改革がおこなわれ、旗本や御家人の生活難を救うため、借金を帳消しにするなどの政策がとられた。
- ウ 西洋の学問を研究する蘭学が発達し、オランダ語の書物が和訳されたり、ドイツ人医師シーボルトが弟子を育てたりした。
- エ 大阪には蔵屋敷が集まり、多くの年貢米や特産品が集まったことから「天下の台所」とよばれ、商業都市として発展した。

2

次の文を読み、また略地図や資料をみて、それぞれの問いに答えなさい。

1868年3月14日、明治天皇は、公議世論を尊重し、諸外国の文化や技術を取り入れながら、近代国家へと日本をつくりかえようという新政府の基本方針を明らかにしました。ここからはじまる一連の変革は a 明治維新 とよばれています。これにより、江戸時代までの幕藩体制はくずれ、政府の役人が全国を統治する中央集権国家の基礎が築き上げられました。

しかし、人びとのあいだに明治政府への違和感や不満も広がっていきました。1873年に征韓論の論争に敗れて政府を去っていた板垣退助らは、民選議院設立の建白書を政府に提出し、すみやかに国会を開いて、国民を政治に参加させるべきだと主張しました。こうしてはじまった b 自由民権運動 はしだいに広がっていき、1889年には大日本帝国憲法が公布され、日本は憲法と議会をそなえたアジア初の立憲国家となりました。こののち、明治政府は日清戦争、日露戦争と二つの戦争をへて、c 広大な領地や租借権^{そしやく}をあらたに獲得し、国際社会における日本の地位を向上させていきました。

大正時代の1914年、セルビアの青年によるオーストリア皇位継承者暗殺事件をきっかけに、第一次世界大戦が勃発^{ぼつぱつ}しました。当時の第二次大隈重信内閣は、日英同盟を理由に参戦し、中国にあったドイツの軍事拠点を占領しました。大戦が終結すると、世界で最初の常設の国際的平和機構として d 国際連盟 が発足し、また各国では民主主義が高まり、アメリカやイギリスでは男女の普通選挙制を実現しました。日本でも大正デモクラシーの風潮が高まっており、1925年に加藤高明内閣のもとで、e 衆議院議員選挙法が改正 されました。

しかし、昭和初期の日本は、街に失業者があふれるほどの不況におちっていました。1930年には f 世界恐慌の波 にも巻きこまれ、日本経済は深刻な恐慌にみまわれました。一方で、満州に配置されていた関東軍が満州事変をおこすと、いわゆる十五年戦争がはじまり、長くつらい時代がつつきました。

敗戦後、日本は連合国による占領政策下におかれました。GHQの指示のもと、非軍事化、民主化が進められ、憲法も日本国憲法に改正されました。独立と戦後復興を果たした日本は、1950年代半ばから g 高度経済成長 をむかえました。この高度成長のなかで、人びとの生活も大きく変化しました。第1次産業の就業人口が減少し、第2次産業と第3次産業の就業人口が増大しました。マスメディアは、コマーシャルを用いて商品のイメージを売りこみ、大量生産のもと、大量消費の生活になりました。こうした消費生活への変化は、流通面にも変化をもたらし、スーパーマーケットが普及しはじめました。

現在、世界ではグローバル化が進展し、あらたな問題が発生しています。こうした情勢のなか、日本は経済大国として、発展途上国に政府開発援助（ODA）を積極的に提供するなど、世界のための国際貢献をしていかなければなりません。

問1 下線部aについての説明文①と②の正誤の正しい組み合わせを、下のア～エから一つ選び、記号で答えなさい。

- ① 内閣制度が導入される以前の政府は太政官制で、初代太政大臣には伊藤博文が就任した。
- ② 蝦夷地^{えぞち}を北海道と改め、屯田兵という開拓事業^{かんかつ}を管轄する機関が設置された。

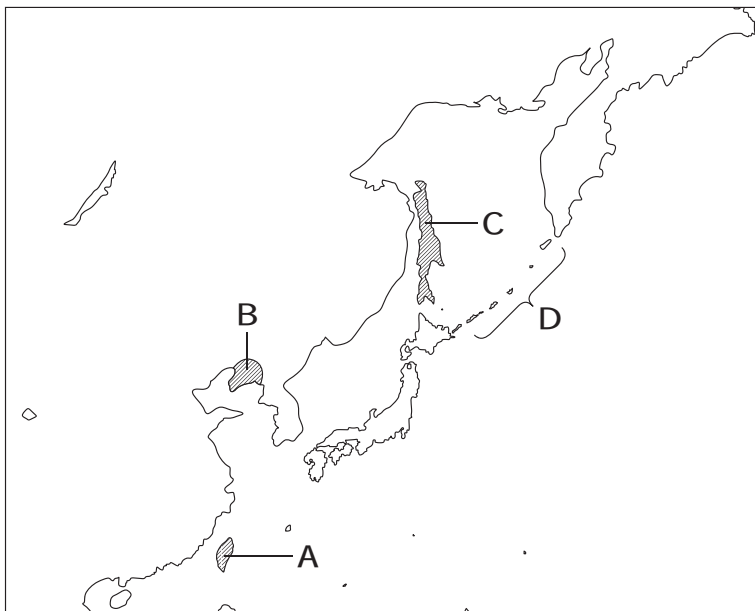
- ア ①－正 ②－正 イ ①－正 ②－誤
- ウ ①－誤 ②－正 エ ①－誤 ②－誤

問2 下線部bについて、次のⅠ～Ⅲの政社や政党が設立された年代の古い順に並んでいるものを、下のア～カから一つ選び、記号で答えなさい。

- Ⅰ 国会期成同盟 Ⅱ 立憲改進黨 Ⅲ 立志社

- ア Ⅰ→Ⅱ→Ⅲ イ Ⅰ→Ⅲ→Ⅱ
- ウ Ⅱ→Ⅰ→Ⅲ エ Ⅱ→Ⅲ→Ⅰ
- オ Ⅲ→Ⅰ→Ⅱ カ Ⅲ→Ⅱ→Ⅰ


<略地図>



問3 下線部cについて、略地図中のA～Dに関して述べた文として正しいものを、次のア～エから一つ選び、記号で答えなさい。

- ア 下関条約でCの租借権を獲得した。
- イ 下関条約でBの領地を獲得した。
- ウ ポーツマス条約でDの租借権を獲得した。
- エ ポーツマス条約でAの領地を獲得した。

〈資料 I〉



問4 下線部 d について、資料 I は、1920 年から 7 年間、国際連盟の事務次長を務めた人物です。人物名を漢字で答えなさい。

問5 下線部 e について、この時の改正によって有権者の資格がどのように変更されましたか。その内容について述べた文として正しいものを、次のア～エから一つ選び、記号で答えなさい。

- ア 直接国税の納税額制限が、10 円以上から 3 円以上へと引き下げられた。
- イ 直接国税の納税額制限が取りはずされ、小作人や労働者にも資格が与えられた。
- ウ 年齢制限が、満 25 歳以上から満 20 歳以上へと引き下げられた。
- エ 年齢制限は満 25 歳以上のままで、男性に加え女性にも資格が与えられた。

〈資料Ⅱ〉



問6 下線部 f について、世界恐慌による社会不安は多くの国に影響を与えました。次の文は、1937年にピカソによって描かれた資料Ⅱに関するものです。文中の (A)・(B) にあてはまる語句の正しい組み合わせを、下のア～エから一つ選び、記号で答えなさい。

スペインでは (A) 反対派の政府に対し、フランコ将軍が反乱をおこして、数年にわたる内戦となりました。1937年、反乱軍を支持する (B) は、スペインの町ゲルニカを無差別爆撃しました。スペイン出身のピカソは、民衆の怒りや悲しみを描いて、(A) 反対を世界に訴えました。

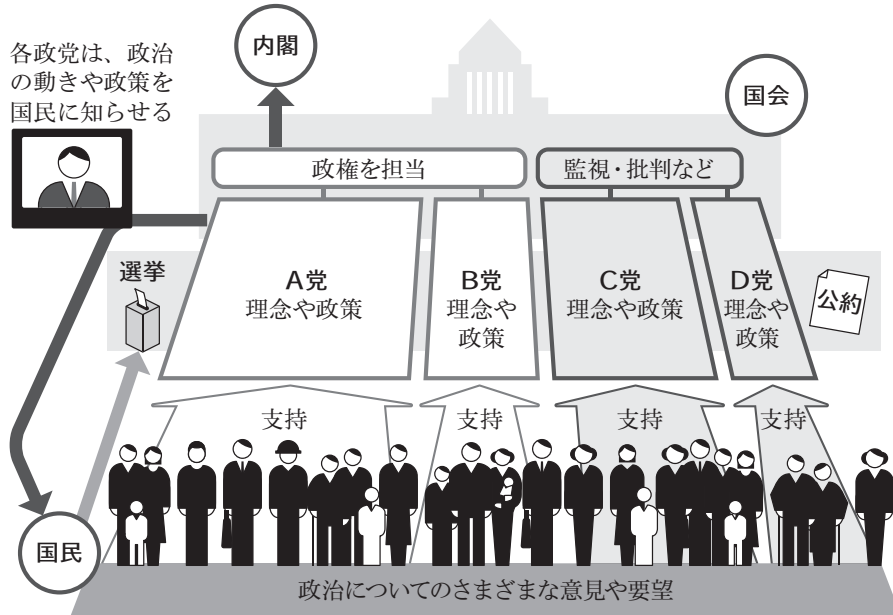
- ア A-ファシズム B-ドイツ イ A-ファシズム B-イギリス
ウ A-社会主義 B-フランス エ A-社会主義 B-ソ連

問7 下線部 g について、このころのできごとについて述べた文として誤っているものを、次のア～エから一つ選び、記号で答えなさい。

- ア 自由党と日本民主党が合同して自由民主党が成立し、政権を担当した。
イ 日本国内の治安維持を目的として、警察予備隊が創設された。
ウ 日韓基本条約が締結され、日本は、大韓民国が朝鮮にある唯一の合法的な政府であることを認めた。
エ 名神高速道路や東名高速道路など、各地で高速道路網が整備されはじめた。

3 次の資料をみて、それぞれの問いに答えなさい。

〈資料 I〉 政党と国民の関係



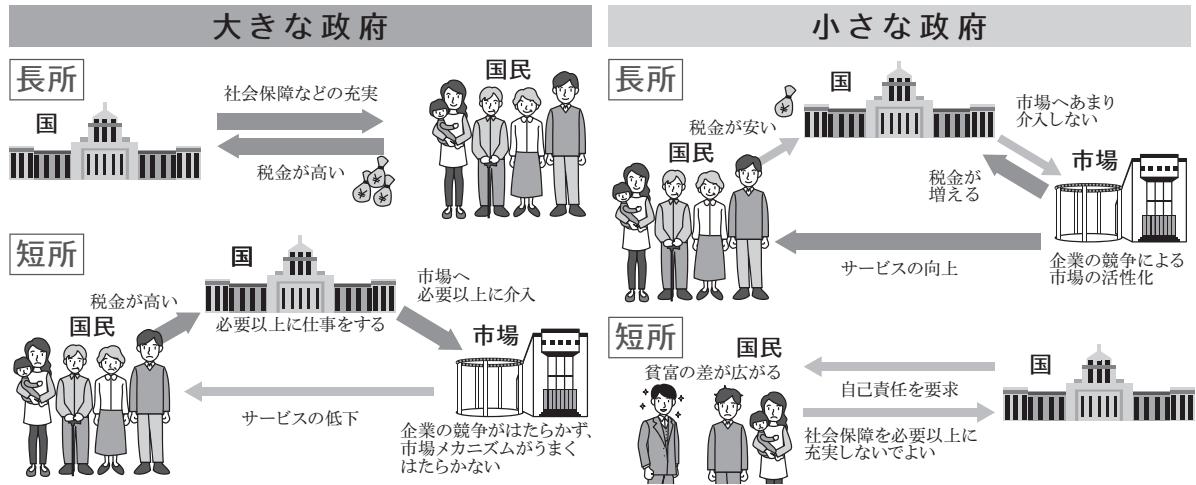
問1 資料 I についての説明文①と②の正誤の正しい組み合わせを、下のア～エから一つ選び、記号で答えなさい。

- ① 政党は国民に公約を示し、支持を得て選挙で票を獲得しようとする。
- ② 国会の多数派である A 党や B 党を与党といい、C 党や D 党を野党という。

- ア ①－正 ②－正 イ ①－正 ②－誤
- ウ ①－誤 ②－正 エ ①－誤 ②－誤

問2 支持する政党を持たない有権者を何といいますか。漢字四字で答えなさい。

〈資料Ⅱ〉 大きな政府と小さな政府の長所と短所



問3 資料Ⅱについて、大きな政府と小さな政府の特徴として正しいものを、次のア～エから一つ選び、記号で答えなさい。

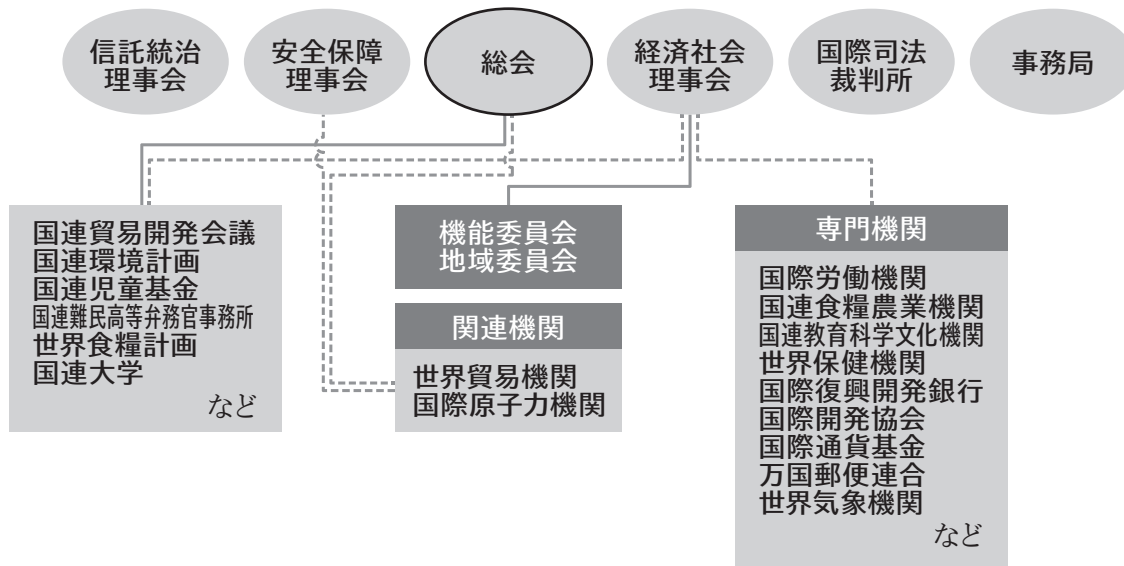
- ア 大きな政府では小さな政府に比べて、公務員の数は減少する。
- イ 大きな政府では小さな政府に比べて、公共事業は縮小される。
- ウ 小さな政府では大きな政府に比べて、規制緩和や民営化が推進される。
- エ 小さな政府では大きな政府に比べて、財政赤字になる可能性が高い。

問4 資料Ⅱに示されているように、大きな政府では社会保障などが充実します。日本の社会保障に関する内容として誤っているものを、次のア～エから一つ選び、記号で答えなさい。

- ア 日本の社会保障制度は、公的扶助・社会福祉・社会保険・公衆衛生の四つを基本的な柱としている。
- イ 日本の社会保障制度は、憲法の平等権の規定に基づいて整備されている。
- ウ 少子高齢化にともない、社会保障給付費全体における年金や医療費の割合が高まっている。
- エ マイナンバー制度を導入した目的は、生活保護費など社会保障給付の不正受給防止も含まれている。

問5 日本では小さな政府という考え方に基づいて、国立大学や国立博物館などが国の各省庁から切り離され、自主性にまかされた運営をしています。このような組織を何といいますか。漢字六字で答えなさい。

〈資料Ⅲ〉 国際連合のおもな組織



問6 下の説明文は国際連合に関するものです。文中の下線部ア～カには誤りが2つあります。その記号を答えるとともに、誤っている語句を正しく書き直さない。

国際連合（国連）は、1945年のサンフランシスコ会議で採択された 国際連合憲章 に基づき、同じ年の10月に発足しました。当初の加盟国は 51 国でしたが、ア 現在では200近くの国が加盟しており、本部は ジュネーブ におかれています。

国連は、総会・安全保障理事会・経済社会理事会・国際司法裁判所・事務局などを中心に、数多くの専門機関と結びついて活動しています。このうち安全保障理事会は、現在、アメリカ・ロシア・イギリス・フランス・エ 日本 の5か国の常任理事国と、10か国の非常任理事国から構成され、平和維持に関する決定をおこなっています。常任理事国は、重要な議題では 拒否権 を持ち、安全保障理事会の決定に大きな影響を及ぼしています。これに対して総会では、すべての加盟国が一票を持ち、通常は カ 過半数 で議決がおこなわれています。

問7 次の①～③の説明文は、資料Ⅲ中の組織のいずれかです。説明文と組織の略称の正しい組み合わせを、下のア～カから一つ選び、記号で答えなさい。

- ① 1948年に設立され、健康水準の維持や感染症の予防などを目的に活動している。
- ② 1953年に設立され、発展途上国の児童への支援などを目的に活動している。
- ③ 1957年に設立され、原子力の平和利用と軍事利用阻止などを目的に活動している。

- | | | | |
|---|----------|----------|----------|
| ア | ①－UNICEF | ②－IAEA | ③－WHO |
| イ | ①－UNICEF | ②－WHO | ③－IAEA |
| ウ | ①－IAEA | ②－UNICEF | ③－WHO |
| エ | ①－IAEA | ②－WHO | ③－UNICEF |
| オ | ①－WHO | ②－UNICEF | ③－IAEA |
| カ | ①－WHO | ②－IAEA | ③－UNICEF |

4 次の文や資料をみて、それぞれの問いに答えなさい。

現代社会においては、ほとんどの国が税を物で納めるのではなく、その国で使用されている a 貨幣で納める方法を採用しており、日本では租税とよばれます。

b 財政を支える租税にはさまざまな種類があります。たとえば、おもに c 労働者などが納める所得税には、高所得者になるほど税率が高くなる（ A ）制度が適用されています。これに対して、商品を購入する際に必要となる d 消費税は、高所得者も低所得者も同じ税負担が求められます。

問1 文中の（ A ）にあてはまる語句を漢字四字で答えなさい。

問2 下線部 a について、次の①～④は、貨幣の機能についての文です。そのはたらきをあらわす語句との正しい組み合わせを、下のア～カから一つ選び、記号で答えなさい。

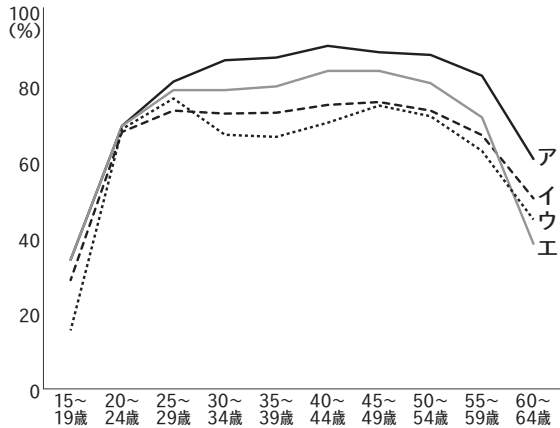
- ① パン1個の価格が、180円と表示されている。
- ② 銀行の口座から、公共料金の自動引き落としをおこなう。
- ③ 祖父よりお年玉5,000円をもらったので、銀行に預けた。
- ④ 書店に行って、1冊850円の本を3冊購入した。

- | | | | | |
|---|---------|---------|---------|---------|
| ア | ①－価値の尺度 | ②－支払い手段 | ③－価値の保存 | ④－交換の手段 |
| イ | ①－価値の尺度 | ②－支払い手段 | ③－交換の手段 | ④－価値の保存 |
| ウ | ①－支払い手段 | ②－価値の尺度 | ③－価値の保存 | ④－交換の手段 |
| エ | ①－支払い手段 | ②－価値の尺度 | ③－交換の手段 | ④－価値の保存 |
| オ | ①－価値の保存 | ②－交換の手段 | ③－価値の尺度 | ④－支払い手段 |
| カ | ①－価値の保存 | ②－交換の手段 | ③－支払い手段 | ④－価値の尺度 |

問3 下線部 b の役割の一つに公共財の供給があります。国や地方公共団体が国民に提供する道路・ダム・港などのことを何といいますか。漢字四字で答えなさい。

問4 下線部 c について、労働三法の中で団結権・団体交渉権・団体行動権の労働基本権を具体的に保障した法律を何といいますか。漢字で答えなさい。

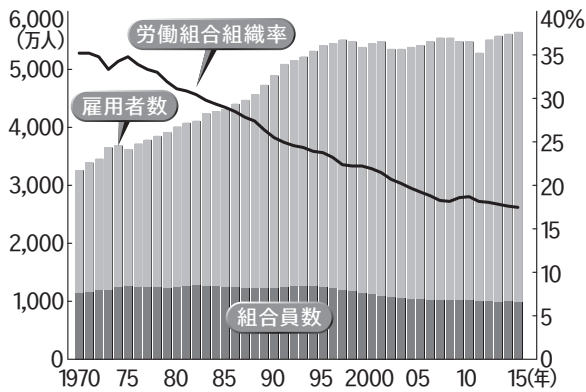
〈資料Ⅰ〉 女性の労働力人口の割合の国際比較



(厚生労働省資料より作成)

問5 下線部cについて、資料Ⅰのア～エは、アメリカ・ドイツ・スウェーデン・日本のいずれかです。スウェーデンにあてはまるものを、上のア～エから一つ選び、記号で答えなさい。

〈資料Ⅱ〉 労働組合に加入する人の数と労働組合の組織率の推移



(『労働統計要覧 2015 年度版』より作成)

問6 下線部cについて、資料Ⅱから読みとれることとして誤っているものを、次のア～エから一つ選び、記号で答えなさい。

- ア 高度経済成長の終わりころから1995年ころにかけて雇用者数の増加が^{いちじる}著しい。
- イ 高度経済成長の終わりころと1995年ころの労働組合員数は、ほぼ同じであり大きな変化はみられない。
- ウ 労働組合組織率は、1970年の約35%に対し、東日本大震災がおきたころには20%にも達していない。
- エ 労働組合組織率は、バブル経済崩壊の年から2010年ころまでやや上昇している。

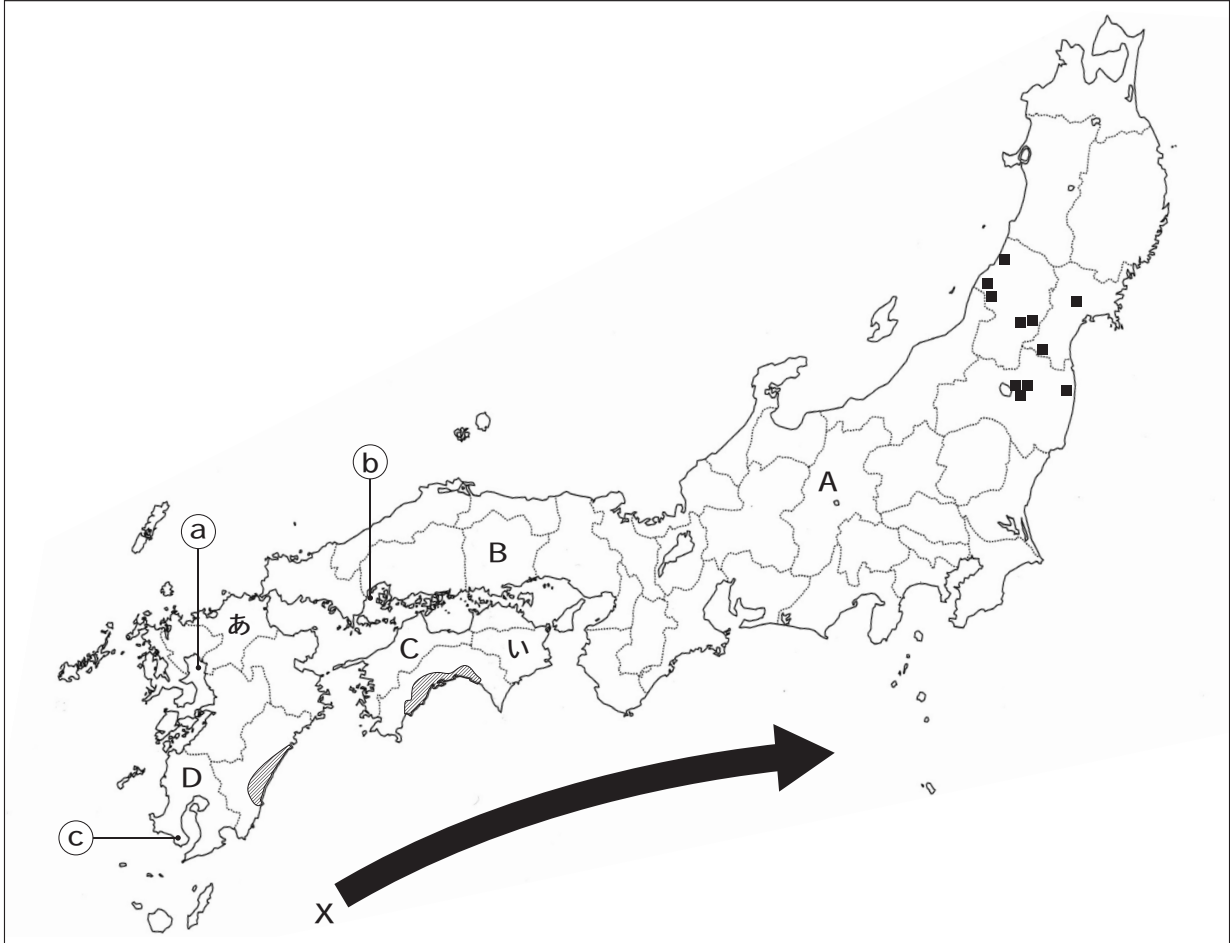
問7 下線部dの説明文として誤っているものを、次のア～エから一つ選び、記号で答えなさい。

- ア 国の一般会計予算の歳入において、租税収入の中で、所得税とともに高い割合である。
- イ 商品の購入と同時に税を負担するので、所得税と比べて脱税などの問題はおこりにくい。
- ウ 税の負担の公平性で見ると、所得税よりも逆進性は小さくなる。
- エ 日本では、1989年に税率3%から始まり、段階的に引き上げられた。

5

次の略地図や資料をみて、それぞれの問いに答えなさい。

〈略地図〉



問1 略地図中Xに示した海流名を、次のア～エから一つ選び、記号で答えなさい。

- ア 千島海流 イ 対馬海流 ウ リマン海流 エ 日本海流

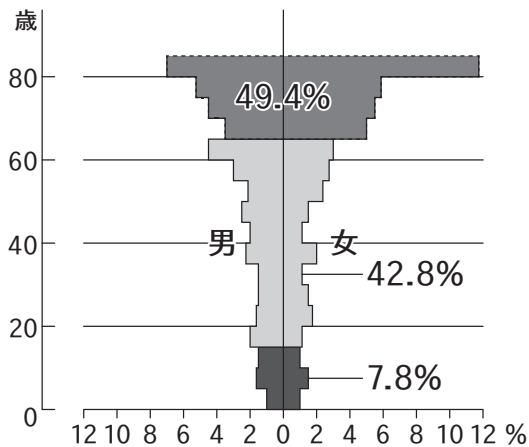
〈資料 I〉



問2 資料 I は略地図中あ県にある島で、2017年6月に世界遺産に登録され「神宿る島」とよばれています。この島の名前を答えなさい。

問3 略地図中あ県にある2つの政令指定都市を漢字で答えなさい。


〈資料Ⅱ〉



(『住民基本台帳人口要覧 平成22年版』より作成)

問4 資料Ⅱは略地図中い県のある町の人口ピラミッドを示したものです。なぜこのような形になるのか、その理由として正しいものを、次のア～エから一つ選び、記号で答えなさい。

- ア 積極的に高齢者を雇用する企業が進出し、高齢者の流入が増えたため。
- イ 全国一の平均寿命の高さから高齢者の割合が高まっているため。
- ウ 少子高齢化とともに進学や就職で都市部へ人口が流出し、過疎化が進んだため。
- エ 県や町の政策により海外へ移住する人が増加したため。

問5 略地図中の  の2つの平野について、次の文中の(①)・(②)にあてはまる語句をそれぞれ漢字二字で答えなさい。

2つの平野では、冬でも温暖な気候をいかしたキュウリやピーマン・ナスなどの野菜を早期に出荷する(①)栽培がさかんです。これらの野菜をトラックやフェリーなどを活用して、東京や大阪などの大都市へ出荷することから(②)園芸とよばれています。

問6 略地図中①・②・③の水域でおこなわれている養殖業の正しい組み合わせを、次のア～カから一つ選び、記号で答えなさい。

- ア ①－のり ②－うなぎ ③－かき
 イ ①－のり ②－かき ③－うなぎ
 ウ ①－かき ②－のり ③－うなぎ
 エ ①－かき ②－うなぎ ③－のり
 オ ①－うなぎ ②－のり ③－かき
 カ ①－うなぎ ②－かき ③－のり

問7 略地図中の■はある工場の全国出荷額上位10県(2016年度)のうち、東北地方における分布を示したものです。この工場を次のア～エから一つ選び、記号で答えなさい。

- ア 製鉄所 イ 石油化学工場 ウ IC工場 エ 製紙・パルプ工場

〈資料Ⅲ〉

	農業生産額 (億円)	農業生産額における品目別割合 (%)				
		米	野菜	果実	畜産	その他
ア	1,291	13.0	15.9	38.6	22.9	9.6
イ	1,260	25.3	15.6	14.4	39.7	5.0
ウ	2,347	20.9	34.3	21.9	12.2	10.7
エ	4,109	5.9	12.1	2.2	60.9	18.9

(『地理統計要覧2016』より作成)

問8 資料Ⅲ中のア～エは、略地図中のA～Dのいずれかの県です。D県にあてはまるものを、上のア～エから一つ選び、記号で答えなさい。

〈資料Ⅳ〉

全 国：292 兆 921 億円

繊維 1.3%

金属 13.6%	機械 43.5%	Y 22.7%	食料品 11.8%	その他 7.1%
-------------	-------------	------------	--------------	-------------

瀬戸内工業地域：29 兆 38 億円

金属 13.7%	機械 7.2%	Y 15.7%	食料品 6.4%	繊維 16.7%	その他 40.3%
-------------	------------	------------	-------------	-------------	--------------

(『地理統計要覧 2016』より作成)

問9 資料Ⅳは全国と瀬戸内工業地域の工業生産額の割合を示したものです。資料Ⅳ中のYにあてはまるものを漢字二字で答えなさい。

6

次の文を読み、また略地図や資料をみて、それぞれの問いに答えなさい。

『母をたずねて3千里』（1976年に放送されたテレビアニメ）は、イタリアのジェノヴァに住む9歳の少年マルコ＝ロッシ（主人公）が、出稼ぎに行ったまま音信不通となった母親を探しに、アルゼンチンのブエノスアイレスまで1人旅をする物語です。

主人公は、略地図に示したルートで約1年間の旅をしました。途中寄港する各地で、何度もトラブルに巻き込まれながらも、そこで出会った人たちと助け合いながら成長していき、ついには母親とアルゼンチンで再会して一緒にイタリアへ帰国します。主人公が寄港した国はフランス・スペイン・セネガル・ブラジル・アルゼンチンで、国ごとに経済的な格差はもちろん文化や風習も異なります。片道の行程距離は約12,000kmです。1里が3,927mなので、まさに3千里の旅をしたこととなります。

<略地図>

..... はルート
○ は寄港した都市



※大西洋の一部は省略

問1 略地図中の南ヨーロッパでは、夏に降水量が少ないため乾燥に強いオレンジやオリーブなどを栽培し、降水量の多い冬に小麦などを栽培します。このような農業を何といいますか。漢字で答えなさい。

〈資料 I〉



この国の国王の肖像画がデザインされている。



市民革命の標語である自由・平等・博愛の文字が刻まれている。

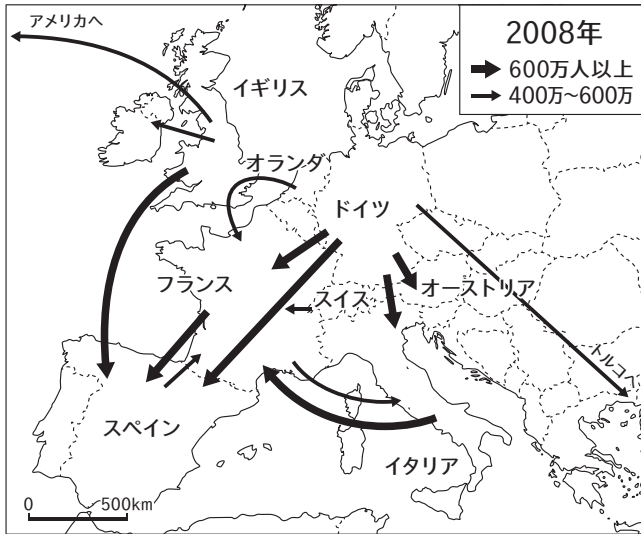


16 世紀の芸術家レオナルド＝ダ＝ヴィンチの作品がデザインされている。

問2 資料 I 中の①～③は、イタリア・フランス・スペインで発行されている 1 ユーロ硬貨のいずれかです。資料 I 中の①～③の硬貨が発行されている国の正しい組み合わせを、次のア～カから一つ選び、記号で答えなさい。

- | | | | |
|---|--------|--------|--------|
| ア | ①－イタリア | ②－フランス | ③－スペイン |
| イ | ①－イタリア | ②－スペイン | ③－フランス |
| ウ | ①－フランス | ②－イタリア | ③－スペイン |
| エ | ①－フランス | ②－スペイン | ③－イタリア |
| オ | ①－スペイン | ②－イタリア | ③－フランス |
| カ | ①－スペイン | ②－フランス | ③－イタリア |

〈資料Ⅱ〉



(『世界統計資料集』より作成)

問3 資料Ⅱは、ある統計資料を地図上に表したものです。資料Ⅱの矢印が示すものを、次のア～エから一つ選び、記号で答えなさい。

- ア 労働者の移動 イ 留学生の移動 ウ 観光客の移動 エ 難民の移動

問4 略地図中のアフリカには発展途上国が多く存在します。これら発展途上国の人びとの生活を守るため、適正な価格で取り引き（貿易）をおこなう取り組みを何とといいますか。カタカナで答えなさい。

問5 略地図中Y国で、1990年代はじめに廃止された人種隔離政策を何とといいますか。カタカナで答えなさい。

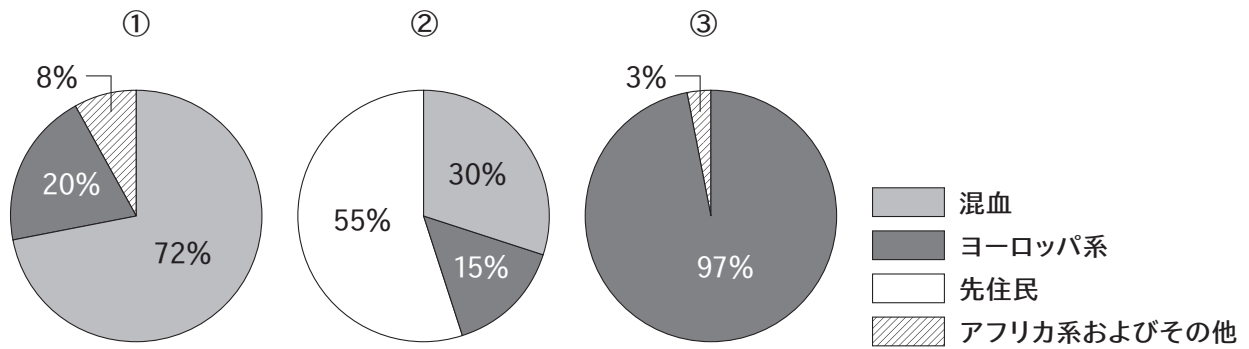
問6 略地図中の①～③の都市の気候帯として正しい組み合わせを、次のア～カから一つ選び、記号で答えなさい。

- | | | | |
|---|-------|-------|-------|
| ア | ①－熱帯 | ②－温帯 | ③－乾燥帯 |
| イ | ①－熱帯 | ②－乾燥帯 | ③－温帯 |
| ウ | ①－温帯 | ②－熱帯 | ③－乾燥帯 |
| エ | ①－温帯 | ②－乾燥帯 | ③－熱帯 |
| オ | ①－乾燥帯 | ②－温帯 | ③－熱帯 |
| カ | ①－乾燥帯 | ②－熱帯 | ③－温帯 |

問7 略地図中の南アメリカの説明として誤っているものを、次のア～エから一つ選び、記号で答えなさい。

- ア 輸出品としてベネズエラの原油、チリの銅、コロンビアのコーヒー豆など、モノカルチャー経済から抜け出せない国がみられる。
- イ スペインやポルトガルから長く植民地支配をうけたことにより、キリスト教のプロテスタントの割合が高い。
- ウ アマゾン川流域では、通気性を高め、雨季の増水対策のために高床の住居が見られる。
- エ 南アメリカの地形は西部にけわしいアンデス山脈が縦断しているが、中部から東部にかけては高原や低地が広がっている。

〈資料Ⅲ〉 人種・民族構成



(『世界年鑑 2009』ほかより作成)

問8 資料Ⅲは略地図中のA～Cのいずれかの国です。略地図中のA～Cと資料Ⅲの①～③の正しい組み合わせを、次のア～カから一つ選び、記号で答えなさい。

- ア ①－A ②－B ③－C
- イ ①－A ②－C ③－B
- ウ ①－B ②－A ③－C
- エ ①－B ②－C ③－A
- オ ①－C ②－A ③－B
- カ ①－C ②－B ③－A

問9 さとうきびやとうもろこしなど主に植物を原料として作られ、略地図中Z国で生産量が多い燃料を答えなさい。

問10 略地図中のルートを旅行している翔平さんとナミエさんの会話文をみて、内容が誤っている会話文を、次のア～エから一つ選び、記号で答えなさい。

ア { 翔平：EUに加盟しているほとんどの国は、国を自由に行き来できるなんてすごいね。
ナミエ：医者や教員の資格も共通に認められているから、EU加盟国内ならどこの国でも働けるわよ。
翔平：これなら国境を越えて通勤ができるし、隣の国へ買い物も気軽に行けるね。
ナミエ：人やモノの流れが活発になると、経済も活性化していくわね。

イ { 翔平：南ヨーロッパの海岸沿いには、白壁の家が多くならなくて、とてもきれいだね。
ナミエ：太陽の日射しが強い地方だから、日射しを反射させて室内の温度を上げないためよね。
翔平：他のヨーロッパの地域より日照りの日が続くしね。
ナミエ：だから日射しを入れないために窓も小さくしているの。

ウ { 翔平：セネガルには、モスクがたくさんあるからイスラム教徒が多いんだね。
ナミエ：イスラム教徒は西アジアだけでなく、アフリカにも多いのよ。
翔平：彼らは1日5回、聖地メッカへ向かってお祈りをするんだね。
ナミエ：そうね、イスラム教徒はイスラム教の決まりに従って生活しているわ。

エ { 翔平：南アメリカの大都市は、どことなくヨーロッパの雰囲気があるよね。
ナミエ：そうね、ヨーロッパから多くのゲルマン民族が移住してきたからよ。
翔平：アフリカ系やアジア系の人も多く、いろんな人種や文化が混ざりあっているね。
ナミエ：ブラジルのサンバは、ヨーロッパの音楽とアジアの音楽とが混ざりあって生まれた音楽の一つよ。