

平成 28 年度 九州国際大学附属高等学校

社 会 入 学 試 験 問 題

問題用紙（1～19 ページ） 試験時間（50 分）

注 意 事 項

1. 試験問題は、試験開始の合図があるまで開けないこと。
2. 試験開始後、問題冊子の印刷の不具合などに気付いた場合は手を挙げて監督者に申し出ること。
3. 解答は、すべて解答用紙に記入すること。
4. 携帯電話、計算機、アラーム等の使用は禁止する。
5. 体調不良等の場合は監督者に申し出ること。
6. 問題用紙は、各自持ち帰ること。

1

次のあゆむさんと真司君の会話文をみて、それぞれの問いに答えなさい。

あゆむ：日本で一番古いお金は何かな。

真 司：一番はわからないけど、日本の古いお金には富本銭というものがあるよ。

あゆむ：どのくらい前につくられていたの。

真 司：a 飛鳥時代につくられていたんだよ。

あゆむ：そんなに昔からあるのね。

真 司：他にも和同開珎など、さまざまなお金をつくっていた。でも、b 中世になるまでは、基本的に物々交換をおこなっていたため、みんながつかっていたわけではないんだよね。

あゆむ：お金はその時代の権力者がつくっていたの。

真 司：そうでもない。c 鎌倉時代や室町時代では、宋銭や明銭といった外国のお金をつかっていたよ。

あゆむ：その後はどうなったの。

真 司：d 安土桃山時代のころには、貨幣経済が発達して、e 織田信長などの権力者の政策によって商品の流通もさかんになったんだ。

あゆむ：信長の死後は、豊臣秀吉があとを継ぐんだよね。

真 司：その秀吉が天下を統一し、戦国の時代がようやく終わる。そして、徳川家康が f 江戸幕府をひらくころには、金貨や銀貨の使用も広く普及し、各地の特産物も江戸や大坂などで売買されたんだ。

あゆむ：平和な時代になると経済も発達し、権力者たちはとても ^{ごうせい} 豪勢な生活をおくったんだろうね。

真 司：そうとも限らない。実際、幕府は急激な貨幣経済の発達に対応しきれず、g 改革を何度かおこなって、財政を立て直そうとしたんだよ。

あゆむ：成功したのかな。

真 司：残念ながらそう上手くはいかなかったようだね。

あゆむ：いつの時代もお金に苦労するんだね。

問1 下線部aのころ、天智天皇がおこなってきた政治改革を助け、藤原の姓をさずけられた人物は誰ですか。漢字で答えなさい。

問2 下線部bのころおこったできごとについて、古い年代順に並んでいるものを、次のア～エから一つ選び、記号で答えなさい。

- ア 弘安の役 → 承久の乱 → 琉球王国の成立 → 建武の新政
- イ 承久の乱 → 弘安の役 → 建武の新政 → 琉球王国の成立
- ウ 弘安の役 → 承久の乱 → 建武の新政 → 琉球王国の成立
- エ 承久の乱 → 弘安の役 → 琉球王国の成立 → 建武の新政

問3 下線部cのころについての説明文①・②の正誤の正しい組み合わせを、下のア～エから一つ選び、記号で答えなさい。

- ① 鎌倉幕府のしくみには、御家人を統制する侍所や、一般の政務や財務を担当する政所などがあった。
- ② 元の皇帝フビライは、高麗を征服したあと日本に使者をおくり、朝貢と服属を要求した。

- ア ①－正 ②－正 イ ①－正 ②－誤
- ウ ①－誤 ②－正 エ ①－誤 ②－誤

問4 下線部dのころ、堺の商人で「わび茶」を完成させ、茶の湯を「茶道」へと高めた人物は誰ですか。漢字で答えなさい。

問5 下線部eについての説明として誤っているものを、次のア～エから一つ選び、記号で答えなさい。

- ア キリシタンの弾圧をおこなった。
- イ 東海地方を支配する今川義元を桶狭間の戦いで破った。
- ウ 天下布武という武家による政権づくりを表明した。
- エ 関所を廃止して自由な交通を許した。

問6 下線部fのころにおこなわれた、参勤交代の説明として正しいものを、次のア～エから一つ選び、記号で答えなさい。

- ア 大名は1年ごとに、京都と領地を行き来しなければならなかった。
- イ 大名は2年ごとに、江戸と領地を行き来しなければならなかった。
- ウ 交通費は幕府が負担したため、大名の経済的損失はなかった。
- エ 大名の妻や子は、江戸の屋敷で生活しなければならなかった。

問7 下線部gについて、質素と儉約を目標に寛政の改革を進めた人物は誰ですか。漢字で答えなさい。

2 次の文や史料をみて、それぞれの問いに答えなさい。

“その人物”は1838年にイギリス北部で生まれ、1859年来日しました。江戸幕府はその前年にアメリカと（ A ）条約を結び、これをきっかけに欧米と貿易をはじめたばかりでした。彼も貿易港があった長崎に会社をつくり、貿易をおこないました。この地は a 倒幕に向けて動いていた西国諸藩と地理的に近かったこともあり、彼はそれらの藩とつながって洋式武器を売るようになりました。また、近代的な工場を建てたり炭鉱の経営をおこなったりと、日本の近代化に深くかかわりました。

明治を迎えた日本は富国強兵、殖産興業、文明開化などをスローガンに掲げて、 b 欧米列強に負けない国づくりをしようとしていました。そうした中で、強力に国政をリードしたい明治政府と、さまざまな権利や減税を認めさせたい政党との間で何度も対立がありました。そのころ“その人物”は日本人女性と結婚し、子どもにも恵まれていました。彼が60歳をこえた1901年には北九州で官営の（ B ）が操業をはじめ、国内生産量の多くを占めるまでになりました。彼の来日から約40年あまりで、 c 日本の産業は大きく発展しました。





彼が亡くなったのは1911年です。翌年から d 日本の年号は大正となりました。大正は短い時代でしたが、同時期の世界は第一次世界大戦の勃発など、激動の時代を迎えました。このとき、“その人物”の子の倉場富三郎は、アメリカ留学から長崎に戻り、父と同じく実業家の道を歩んでいました。しかし、 e 第二次世界大戦がはじまると、父がイギリス人であったことから富三郎はスパイの容疑をかけられ、 ふぐろ不遇な生活をおくりました。また、終戦直前の1945年8月9日には長崎に原子爆弾が投下され、多くの失意の中で、富三郎は74歳の生涯をとじました。富三郎の父親である“その人物”とは、トーマス＝グラバーです。倉場という名はグラバーにちなんだものです。

戦争に敗れ、連合国に占領された日本は、憲法改正とともに民主化を進めました。そして、冷戦での東西対立に ほんろう翻弄されながらも f 1952年に独立を果たしました。その後の日本は本格的に高度経済成長の時代を迎えました。政治面では、自民党が社会党と対立しながらも政権をとり続けるという55年体制が生まれたのが同時期のことです。

2015年7月、「明治日本の産業革命遺産」が世界遺産に登録されました。その構成資産には、九州国際大学付属高校と同じ八幡東区にある（ B ）の関連施設や、長崎でグラバー親子が暮らしていた旧グラバー住宅が含まれています。

問1 文中の（ A ）・（ B ）にあてはまる語句を漢字で答えなさい。

問2 下線部aについて、西国諸藩とその代表的な人物の組み合わせとして誤っているものを、次のア～エから一つ選び、記号で答えなさい。

ア	イ	ウ	エ
			
高杉晋作 〈長州藩〉	西郷隆盛 〈薩摩藩〉	坂本龍馬 〈土佐藩〉	岩倉具視 〈肥前藩〉

問3 下線部bについて、明治維新とよばれる新政府の政策について述べた文として正しいものを、次のア～エから一つ選び、記号で答えなさい。

- ア 新政府は江戸時代の身分制度を改め、身分を越えた結婚を禁止した。
- イ 新政府は版籍奉還によって、年貢から貨幣による納税へと変更した。
- ウ 新政府は廃刀令を出し、士族の特権であった帯刀を禁止した。
- エ 新政府は教育基本法を制定し、全ての国民に小学校教育を受けさせた。

問4 下線部cについて、明治時代の日本の産業についての説明文①と②の正誤の組み合わせとして正しいものを、下のア～エから一つ選び、記号で答えなさい。

- ① 日清戦争前後に軽工業分野で産業革命が成功し、工場生産が広まった。
- ② 資本主義経済が発達する一方で、水俣や四日市などでは公害が問題となった。

- | | |
|-----------|-----------|
| ア ①－正 ②－正 | イ ①－正 ②－誤 |
| ウ ①－誤 ②－正 | エ ①－誤 ②－誤 |

問5 下線部dについて、次の①～③の説明文は、大正時代におこったものです。そのできごとが古い年代順に並んでいるものを、下のア～カから一つ選び、記号で答えなさい。

- ① 加藤高明内閣のもと、納税額の制限を外した普通選挙法が公布された。
- ② 民族自決を求め、朝鮮の独立を目指した三・一独立運動がおこった。
- ③ 日本は中国政府に、旅順の租借期限の延長などの二十一か条の要求をつきつけた。

- | | | |
|-------------|-------------|-------------|
| ア ① → ② → ③ | イ ① → ③ → ② | ウ ② → ① → ③ |
| エ ② → ③ → ① | オ ③ → ① → ② | カ ③ → ② → ① |

問6 下線部 e について、下の文は次の写真のできごとからはじまる戦争について説明したものです。文中の下線部ア～エに誤りがあれば、その記号と正しい語句を答えなさい。誤りがなければ、解答用紙の記号の欄に○を記入しなさい。



1941年12月8日、日本軍はハワイの ア 真珠湾にあるアメリカ海軍基地を襲撃し、 イ 太平洋戦争がはじまりました。日本は、その数年前から政府が人どものを統制する権限をもつ ウ 治安維持法で、国民を戦争に協力させていました。この戦争は、1945年8月に エ ポツダム宣言を日本が受諾し、終わりを迎えることとなりました。

問7 下線部 f について、次の X・Y の史料は、独立の前年に結ばれたものです。X・Y とその名称の組み合わせとして正しいものを、下のア～エから一つ選び、記号で答えなさい。

- X 日本国は、千島列島と、ポーツマス条約で獲得した南樺太とこれに近接する諸島に対する権利と請求権を放棄する。
- Y 日本国は、アメリカ合衆国の陸軍、空軍および海軍を日本国内とその付近に配備する権利を認める。

- | | |
|------------------|------------|
| ア Xー日ソ共同宣言 | YーPKO協力法 |
| イ Xーサンフランシスコ平和条約 | YーPKO協力法 |
| ウ Xーサンフランシスコ平和条約 | Yー日米安全保障条約 |
| エ Xー日ソ共同宣言 | Yー日米安全保障条約 |

3 北半球に関する次の文を読み、また略地図や資料をみて、それぞれの問いに答えなさい。

地球を赤道で二分したとき、その北側を北半球とよびます。地球上に存在する陸地の約67%が北半球にあります。気候においては、熱帯から a 寒帯まで幅広く、植物の生育だけでなく人間生活や b 農業にも大きな影響を与えています。特に東アジアから南アジアにかけては、(A) の影響を受けるために雨季や乾季といった季節の変化がみられます。ヨーロッパでは暖流と (B) の影響により、高緯度の地域でも比較的温暖な気候となっています。さらに各地域において c 宗教的な価値観や衣・d 食・住の面で、さまざまな異なった文化や風習をみることができます。

また、北半球には世界人口の約92%が集まり、先進国の多くも集まっています。さらに、近年は経済成長 ^{いちじる} 著しいアジア諸国も、e 世界経済に影響を与えるようになってきています。特に中国では沿岸部に (C) とよぶ開発地区を設けて、日本をはじめとする海外の企業が (C) へ多く進出し、工業化が急速に進みました。2014年の世界のGDP(国内総生産)ランキングでは、1位のアメリカから、中国・日本・ドイツ・イギリスの上位5カ国がすべて北半球の国です。この上位5カ国で、世界のGDP合計金額の約50%を占めています。

<略地図>



問1 文中の (A) ~ (C) にあてはまる語句を、漢字で答えなさい。

問2 下線部aについて、この地域に分布し、年間を通して凍っている土壌を何といいますか。漢字で答えなさい。

〈資料Ⅰ〉 2014年 穀物生産量上位国


	①	②	③
1位	中国	アメリカ	中国
2位	インド	中国	インド
3位	アメリカ	ブラジル	インドネシア
4位	フランス	メキシコ	ベトナム
5位	ロシア	アルゼンチン	タイ

(「地理統計要覧 2014年版」より作成)

問3 下線部bについて、資料Ⅰ中の①～③は米・小麦・トウモロコシのいずれかです。資料Ⅰ中の①～③の正しい組み合わせを、次のア～カから一つ選び、記号で答えなさい。

- ア ①－米 ②－小麦 ③－トウモロコシ
 イ ①－米 ②－トウモロコシ ③－小麦
 ウ ①－小麦 ②－米 ③－トウモロコシ
 エ ①－小麦 ②－トウモロコシ ③－米
 オ ①－トウモロコシ ②－米 ③－小麦
 カ ①－トウモロコシ ②－小麦 ③－米

〈資料Ⅱ〉 東南アジア諸国の宗教別人口割合



(「THE STATESMAN'S YEARBOOK 2009」より作成)

問4 下線部cについて、資料Ⅱ中の①～③は、タイ・マレーシア・フィリピンのいずれかです。

資料Ⅱ中の①～③の正しい組み合わせを、次のア～カから一つ選び、記号で答えなさい。

- ア ①－タイ ②－マレーシア ③－フィリピン
 イ ①－タイ ②－フィリピン ③－マレーシア
 ウ ①－マレーシア ②－タイ ③－フィリピン
 エ ①－マレーシア ②－フィリピン ③－タイ
 オ ①－フィリピン ②－タイ ③－マレーシア
 カ ①－フィリピン ②－マレーシア ③－タイ

問5 下線部dについて、次の文は略地図中のW～Zのいずれかの国における伝統的な食事について説明したものです。Z国にあてはまるものを、次のア～エから一つ選び、記号で答えなさい。

- ア キャッサバなどのイモ類を貴重な炭水化物の栄養源としており、蒸したり茹でたりと調理のバリエーションは多い。
 イ トウモロコシを粉にして、練って薄くのばして焼いたトルティーヤに野菜や肉をはさんだタコスが有名である。
 ウ この国の北部では小麦を用いた伝統料理が多く、南部では米からつくったビーフンとよばれる麺料理もみられる。
 エ 料理の多くにオリーブ油が利用され、特に米や野菜、魚介類などを炊き込んだパエリアが人気である。

〈資料Ⅲ〉 各国の面積・1人当たりのGDP・貿易額（輸出入額合計）

	面積 (千km ²)	1人当たりのGDP (ドル)	貿易額（輸出入額合計） (億ドル)
ア	378	36 331	15 470
イ	4 381	32 028	116 556
ウ	9 629	54 596	39 105
エ	9 597	7 589	41 609

(「データブック・オブ・ザ・ワールド 2015 ほか」より作成)

問6 下線部eについて、資料Ⅲ中のア～エは、EU（ヨーロッパ連合）・アメリカ・中国・日本のいずれかです。アメリカにあてはまるものを、上のア～エから一つ選び、記号で答えなさい。

4

日本に関する次の文を読み、また略地図や資料をみて、それぞれの問いに答えなさい。

今年ブラジルの a リオデジャネイロでオリンピックが開催され、4年後の2020年には東京オリンピックの開催が決定しています。ブラジルと日本との関係は19世紀末から続いており、20世紀初頭からは多くの日本人が b 移住しています。また近年は、c ブラジルへ渡った日本人の子孫(日系人)が日本に労働者として移住してきています。

これまでに日本では、夏季と冬季のオリンピックが3回開催されており、d 東京・札幌・長野でおこなわれました。オリンピック以外では、2002年に e 韓国と共催でサッカーの世界カップがおこなわれ、2019年にはラグビーの世界カップ開催が決定しています。1964年にはじめて日本でオリンピックが開催されたときには、首都圏を中心に交通機関や道路などのインフラ整備がおこなわれました。その後、新幹線や高速道路は全国に拡大していきました。昨年は、長野まで開業していた f 北陸新幹線が g 金沢まで開通しました。

〈略地図〉



問1 下線部aの都市と日本の時差は12時間あります。日本が1月1日午前9時の時にリオデジャネイロは12月31日午後9時となり、前日となります。これは略地図中のAの線が両国の間にあるからです。このAの線を何といいますか。漢字で答えなさい。

問2 下線部 **b** について、ブラジル以外にもアメリカのハワイやカリフォルニア州などにも日本人が移住しました。現在のアメリカでは、メキシコ国境に近い南部を中心にスペイン語を話す人びとが多数移住してきています。このスペイン語を話す人びとを何といいますか。

〈資料Ⅰ〉 ブラジル人の居住者数（2014年）

1位	B	47 695
2位	静岡県	26 476
3位	三重県	12 559
4位	群馬県	11 942

（法務省HPより作成）

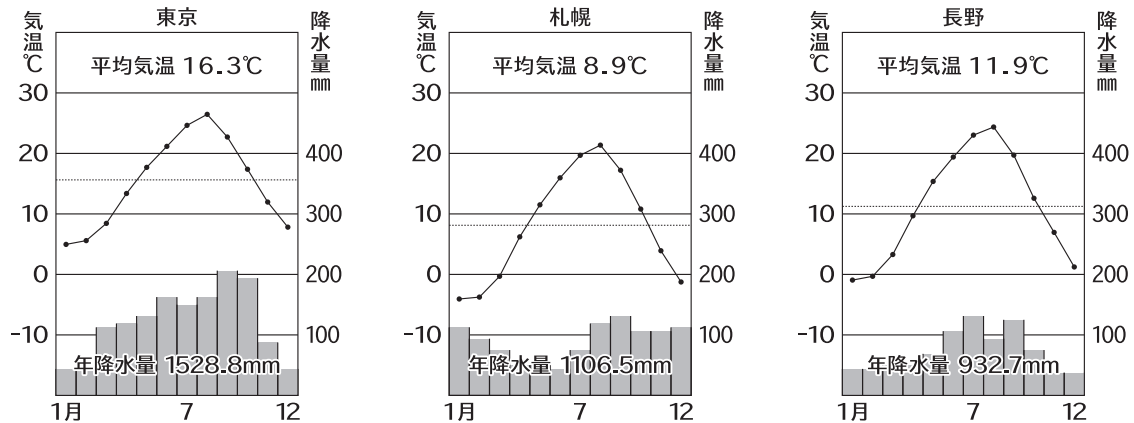
〈資料Ⅱ〉 輸送用機械器具出荷額（2012年）（十億円）

1位	B	21 487
2位	静岡県	4 494
3位	神奈川県	3 747
4位	三重県	2 661

（「地理統計要覧 2015年版」より作成）

問3 下線部 **c** について、資料Ⅰ・Ⅱから、ブラジル人の居住者数の多い都道府県と輸送用機械器具出荷額が多い都道府県はほぼ共通していることがわかります。資料Ⅰ・Ⅱ中の **B** にあてはまる都道府県名を漢字で答えなさい。

〈資料Ⅲ〉東京・札幌・長野の雨温図（1981年～2010年の平均）



(気象庁のデータより作成)

問4 下線部dについて、資料Ⅲの雨温図と各地の特色について述べた文として誤っているものを、次のア～エから一つ選び、記号で答えなさい。

- ア 東京の平均気温が一番高いのは、3カ所の中で緯度が一番低いことが影響している。
- イ 札幌の6月の降水量が一番少ないのは、緯度が高く梅雨前線の影響を受けないためである。
- ウ 長野の農業は平均気温が低いため稲作が中心で、農業生産額に占める果実の割合は低い。
- エ 冬の気温が低く雪が多い札幌と長野では、冬季オリンピックが開催された。

問5 下線部eについて、日本と韓国の間には解決していない領土問題があります。その帰属をめぐって日本と韓国で問題となっている場所を、次のア～エから一つ選び、記号で答えなさい。

- ア 竹島 イ 国後島 ウ 尖閣諸島 エ 南沙群島

問6 下線部fについて、北陸新幹線の開通によってもたらされた影響として誤っているものを、次のア～エから一つ選び、記号で答えなさい。

- ア 首都圏などから、北陸地方への新幹線を利用した観光客が増えた。
- イ 新幹線と競合する航空路線の便数が減った。
- ウ 新幹線の開通により、高速道路を利用したトラック輸送が減った。
- エ 新幹線の開通により、北陸地方への経済効果がみこまれる。

問7 下線部gについて、金沢やその周辺に関する説明として誤っているものを、次のア～エから一つ選び、記号で答えなさい。

- ア 金沢市は古くからの城下町で、石川県の県庁所在地である。
- イ 金沢箔などの伝統工芸がさかんで、同じ県内の輪島では漆器の生産がおこなわれている。
- ウ 隣県の富山県は、水田率が全国1位で米づくりがさかんである。
- エ 隣県の富山県には、フォッサマグナが通っており、太平洋側まで続いている。

5 次の文や資料をみて、それぞれの問いに答えなさい。

民主政治は、人権獲得の歴史とともに歩んできました。17世紀から18世紀に活躍したイギリスのロックやフランスの aモンテスキュー、ルソーの思想は、bヨーロッパやアメリカなどの国々の市民革命の原動力となりました。そして、c基本的人権の思想も国際的に広がり、自由や平等を実現する社会がしだいに成立しました。

日本では、第二次世界大戦後、d日本国憲法が制定され、民主政治が実現しました。2016年で、この憲法の公布から70年になります。2015年の6月には、(A)が改正され、選挙権が18歳以上に与えられるようになりました。これは e国政選挙だけでなく、f地方公共団体の首長と議員の選挙、首長解職や議会解散にともなう住民投票、さらに g最高裁判所裁判官の (B) などにも適用されることになりました。(A)の改正が成立したことによって、約240万人の h有権者が新たに加わるようになります。

現在、世界約190カ国・地域のうち、約9割で選挙権年齢は18歳以上です。日本にとっても、新たな民主政治の歴史がこれからはじまります。

問1 文中の (A)・(B) にあてはまる語句を漢字で答えなさい。

問2 下線部aについて、この人物が主張した思想として正しいものを、次のア～エから一つ選び、記号で答えなさい。

- ア 人間が生まれながらにもつ生命、自由、財産の権利を守ることの必要性を唱えた。
- イ 『法の精神』を著し、^{あらわ}立法、行政、司法の権力分立を唱えた。
- ウ 人々に本当の自由や平等を実現するため、人民主権を唱えた。
- エ 『社会契約論』を著し、^{あらわ}直接民主制を唱えた。

問3 下線部 b について、①と②はこれらの国々で出された宣言や憲法の説明文です。Ⅰ～Ⅲとの正しい組み合わせを、下のア～カから一つ選び、記号で答えなさい。

- ① 1776年にロックの思想の影響を受けて出されたものである。その中には、生命、自由および幸福を追求する権利が示されている。
- ② 1919年に示されたものである。その中には、世界で初めてすべての人に人間らしい生活を保障する社会権の考え方が示されている。

Ⅰ	フランス人権宣言	Ⅱ	アメリカ独立宣言	Ⅲ	ワイマール憲法			
ア	①-Ⅰ	②-Ⅱ	イ	①-Ⅰ	②-Ⅲ	ウ	①-Ⅱ	②-Ⅰ
エ	①-Ⅱ	②-Ⅲ	オ	①-Ⅲ	②-Ⅰ	カ	①-Ⅲ	②-Ⅱ

問4 下線部 c について、日本国憲法で保障する基本的人権の説明として誤っているものを、次のア～エから一つ選び、記号で答えなさい。

- ア 労働者が労働組合をつくったり使用者と交渉する権利は、憲法に明記されていない。
- イ 健康で快適な環境の中で暮らす権利である環境権は、憲法に明記されていない。
- ウ 社会権の考えにもとづいて、国民年金法や生活保護法などが制定されている。
- エ 自由権の考えにもとづいて、通信の秘密や黙秘権などが保障されている。

〈資料Ⅰ〉

日本国民は、正義と秩序を基調とする国際平和を誠実に希求し、国権の発動たる ア戦争と、武力による ^{いかく}威嚇又は イ武力の行使は、国際紛争を解決する手段としては、永久にこれを放棄する。

前項の目的を達するため、陸海空軍その他の戦力は、これを保持しない。 ウ国の交戦権は、これを認めない。

問5 下線部 d について、資料Ⅰは、日本国憲法第9条の条文です。資料Ⅰ中の下線部ア～ウの語句が、すべて正しい場合は○を、誤っている場合はその記号をすべて答えなさい。

〈資料Ⅱ〉

政党名	A党	B党	C党
得票数	600	500	280

問6 下線部 e について、資料Ⅱは、比例代表選挙におけるA党・B党・C党の得票数を示しています。この選挙区が定数6名の時、ドント式によって議席を配分した場合、B党からの当選者は何名になりますか。

問7 下線部 f について、住民からの苦情を受けて、行政にかかわる透明な情報公開をおこなったり、行政が適正におこなわれているかを調査・監視して、改善を勧告する制度のことを何といいますか。カタカナで答えなさい。

問8 下線部 g は、法律や政令などが、憲法に違反しているかどうかについて、最終的に判断を下すことから何とよばれていますか。

問9 下線部 h に関する文①と②の正誤の正しい組み合わせを、下のア～エから一つ選び、記号で答えなさい。

- ① 選挙制度において、小選挙区制に比べ比例代表制では、有権者の少数意見が政治に反映されやすい。
- ② 議員定数が同じ場合、有権者数が多い選挙区ほど、一票の価値は大きくなる。

- ア ①－正 ②－正 イ ①－正 ②－誤
ウ ①－誤 ②－正 エ ①－誤 ②－誤

6

次の博幸君と和美さんの会話文や資料をみて、それぞれの問いに答えなさい。

博幸：インフレ（インフレーション）とデフレ（デフレーション）って、a 資本主義経済にとってどのような影響があるのかな。

和美：インフレは、b 物価が継続的に上昇して、お金の価値が下がること。デフレはその逆でしょ。

博幸：そうだよ。ところで、インフレってどうしておこるのかな。

和美：たとえば景気がよくなって、c 需要が増えると、供給が追いつかなくなって物価は上がるの。また、賃金や原材料費など生産コストが上がると、企業は利益を確保するために、販売価格を引き上げようとするのもインフレの原因じゃない。

博幸：なるほどね。いずれにしても生産活動自体は縮小しているわけではないし、d 失業者も増えていない状態だよな。

じゃあ、デフレの場合はどうなの。

和美：たとえば不景気で商品が売れなくなった場合、企業は生産を減らしたり社員の賃金を減らしたりするの。さらには、e 非正規社員の数を減らしたり正社員も解雇され、失業する人が増え、ますます商品が売れなくなるの。仕方なく商品の値段を下げると企業の利益は減るので、さらに賃金を下げ解雇も進む可能性があるの。

商品の値段はどんどん下がるけど景気も後退し、まるでらせん階段を下るように経済は悪化するの。この状態をデフレスパイラルというの。

博幸：他にもインフレとデフレでは、どのような影響があるのかな。

和美：インフレはお金の価値が下がることを意味するので、借金のある人や企業にとって、インフレはありがたいの。一方、デフレはお金の価値が上がることなので、借金の実質的な負担は増えるの。銀行などから借金をしている f 中小企業は、特に大変なの。g 日本は企業も国も借金を多く抱えているので、デフレによるダメージはとても大きい。

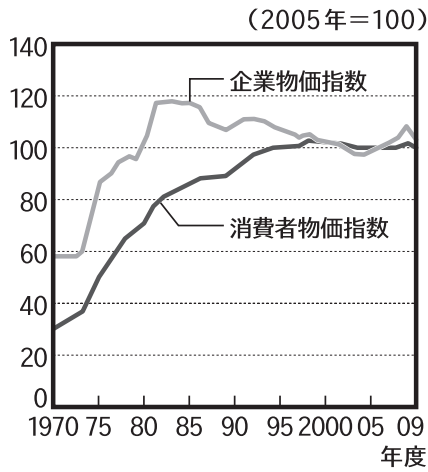
そこで最近では「調整インフレ」といって、適度なインフレをおこそうという考え方がでてきているの。ある一定の範囲内のインフレ目標（h インフレターゲット）を設定し、物価上昇率がその範囲内に到達するように金融政策などをおこなっているの。

博幸：商品の値段が安くなったことだけを、喜んでばかりもいられないよね。

問1 下線部 a について、この内容としてあてはまるものを、次のア～エからすべて選び、記号で答えなさい。

- ア 自由な競争がおこなわれ、市場で価格が決定される。
- イ アメリカやヨーロッパなど、世界の多くの国で取り入れられている。
- ウ 中国やベトナムにおいて、長い間実施されてきた。
- エ 公企業の生産活動が中心である。

〈資料 I〉 物価指数の推移

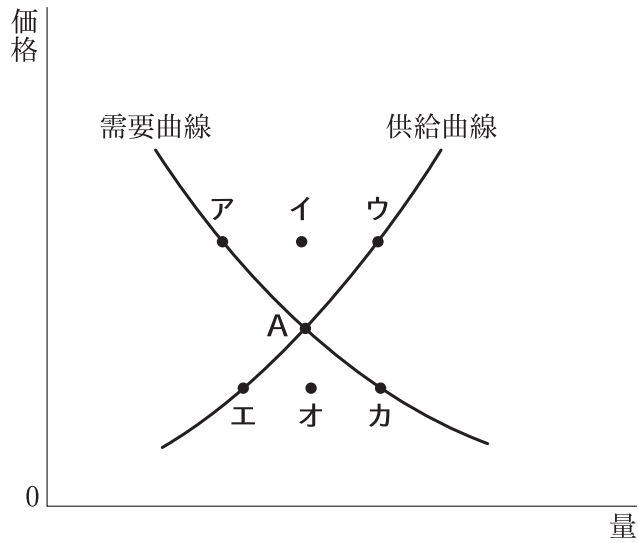


(内閣府ほかより作成)

問2 下線部 b について、資料 I から読みとれることとして誤っているものを、次のア～エから一つ選び、記号で答えなさい。

- ア 石油危機がおこったころ、消費者物価指数よりも企業物価指数の方が高い。
- イ バブル経済とよばれる状態になったころ、消費者物価指数よりも企業物価指数の方が低い。
- ウ 1970 年から 2009 年において、消費者物価指数よりも企業物価指数の方が変動幅が小さい。
- エ 1970 年から 2009 年のすべての年度において、消費者物価指数よりも企業物価指数の方が高いとは限らない。

〈資料Ⅱ〉 需要と供給の関係



問3 下線部cについて、資料Ⅱ中のAの時の価格を何とといいますか。漢字で答えなさい。

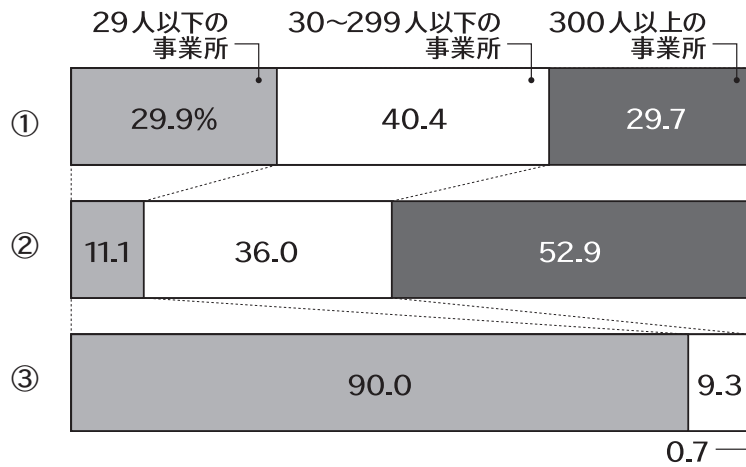
問4 下線部cについて、生産者側の状況に変化がなかった場合、商品の人気がさらに上がると、資料Ⅱ中のAはどこに移動しますか。資料Ⅱ中のア～カから一つ選び、記号で答えなさい。

問5 下線部dについて、さまざまな理由により仕事を探している人に対して、無料で紹介・仲介している公的な機関を何とといいますか。カタカナで答えなさい。

問6 下線部eについて述べた文として誤っているものを、次のア～エから一つ選び、記号で答えなさい。

- ア 非正規社員の中には、派遣労働者やアルバイトなどさまざまな雇用形態がある。
- イ 企業は、人件費の削減などを目的に非正規社員を雇用している。
- ウ 非正規社員のうち、派遣労働者は派遣先の企業との間に直接的な雇用関係がある。
- エ 非正規社員は雇用期間などが不安定で、生活の見通しが立てにくい面がある。

〈資料Ⅲ〉 製造業の事業所規模別割合



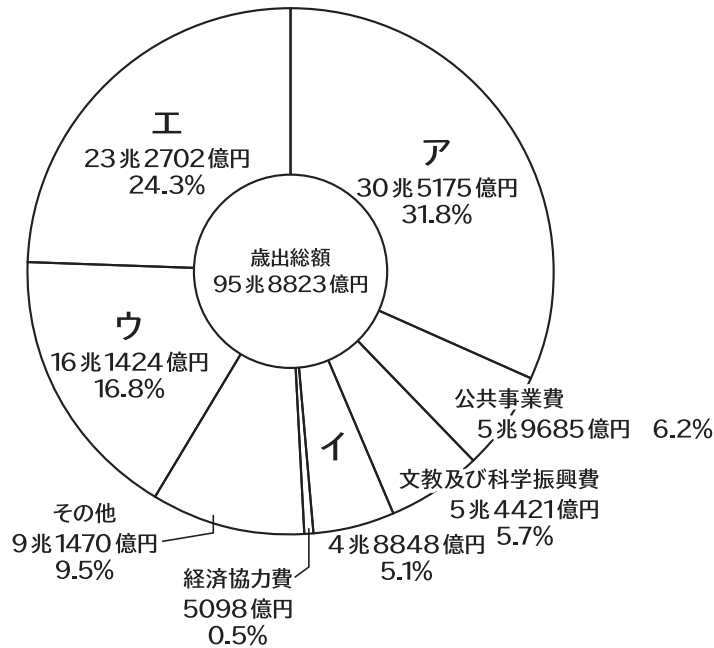
(2010年 経済産業省より作成)

問7 下線部 f について、資料Ⅲ中の①~③は事業所数・製造品出荷額・従業者数のいずれかです。

これらの正しい組み合わせを、次のア~カから一つ選び、記号で答えなさい。

- | | | | |
|---|----------|----------|----------|
| ア | ①—事業所数 | ②—製造品出荷額 | ③—従業者数 |
| イ | ①—事業所数 | ②—従業者数 | ③—製造品出荷額 |
| ウ | ①—製造品出荷額 | ②—事業所数 | ③—従業者数 |
| エ | ①—製造品出荷額 | ②—従業者数 | ③—事業所数 |
| オ | ①—従業者数 | ②—事業所数 | ③—製造品出荷額 |
| カ | ①—従業者数 | ②—製造品出荷額 | ③—事業所数 |

〈資料Ⅳ〉 国の一般会計歳出額 内訳（平成26年度）



(国税庁ホームページ「税の学習コーナー」より作成)

問8 下線部gについて、資料Ⅳ中のア～エは、防衛関係費・社会保障関係費・地方交付税交付金等・国債費のいずれかです。国債費にあてはまるものを、上のア～エから一つ選び、記号で答えなさい。

問9 下線部gについて、企業が株式や債券を発行し、資金を市場より調達することを何といいますか。漢字4字で答えなさい。

問10 下線部hは、安倍内閣の経済政策でも示されましたが、安倍内閣の一連の経済政策を通称何といいますか。カタカナで答えなさい。